

620/5




ใบงานที่ 1 วิชา ภาษาไทย ชั้นประถมศึกษาปีที่ 3 ภาคเรียนที่ 1

หน่วยที่ 1 เรื่อง การผันวรรณยุกต์

มาตรฐานตัวชี้วัด ท4.1ป3/1 อธิบายความหมายของคำและข้อความที่อ่าน

คะแนน



ชื่อ - สกุล ชั้น เลขที่

ครูผู้สอน นางชอุทิศ ธีระจันทร์

เบอร์โทร 087- 0422097

คำชี้แจง ให้นักเรียนเขียนผันวรรณยุกต์คำที่กำหนดให้ถูกต้อง

คำ	สามัญ	เอก	โท	ตรี	จัตวา
ตัวอย่าง คะ	-	-	คะ	คะ	คะ
หาด					
กลิ้ง					
ป้าย					
วิ่ง					
เถา					
ผึ้ง					
ท่าน					
ล้อม					
นับ					
ตอก					

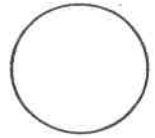


ใบงานที่ 2 วิชา ภาษาไทย ชั้นประถมศึกษาปีที่ 3 ภาคเรียนที่ 1

คะแนน

หน่วยที่ 1 เรื่อง การผันวรรณยุกต์

มาตรฐาน/ตัวชี้วัด ท4.1ป3/1 อธิบายความหมายของคำและข้อความที่อ่าน



ชื่อ - สกุล ชั้น เลขที่

ครูผู้สอน นางชุจิตร ธีระจันทร์

เบอร์โทร 087- 0422097

คำชี้แจง ให้นักเรียนเขียนคำจากคำที่กำหนดให้ถูกต้อง

ประ-พาด _____	คำ-สาบ _____	สัน-ยาน _____	บุน-คุณ _____
รูป-พาบ _____	บอ-ริ-วาน _____	วิ-วัด _____	บด-บาด _____
พาบ-พด _____	ทุก-สุก _____	ไซก-ลาบ _____	ลัด-ประ-หลาด _____

คำชี้แจง ให้นักเรียนระบายสีชมพูในรูปดาวคำที่มีตัวสะกดในมาตราเดียวกัน

๑.				
๒.				
๓.				
๔.				

คำในรูปดาวที่ไม่ระบายสีอยู่ในมาตราตัวสะกดแม่ _____ ได้แก่

คำว่า _____




ใบงานที่ 3 วิชา ภาษาไทย ชั้นประถมศึกษาปีที่ 3 ภาคเรียนที่ 1

หน่วยที่ 1 เรื่อง การผันวรรณยุกต์

มาตรฐานตัวชี้วัด ท4.1ป3/1 อธิบายความหมายของคำและข้อความที่อ่าน

คะแนน



ชื่อ - สกุล ชั้น เลขที่.....

ครูผู้สอน นางชุติฉัตร ธีระจันทร์

เบอร์โทร 087- 0422097

คำชี้แจง ให้นักเรียนเขียนคำอ่านสะกดคำที่กำหนดให้ถูกต้อง

ตัวอย่าง	ค้น	อ่านสะกดคำว่า	คอ-อะ-นอ-คน
๑) ข้าว	อ่านสะกดคำว่า	_____	
๒) ย่าน	อ่านสะกดคำว่า	_____	
๓) กัม	อ่านสะกดคำว่า	_____	
๔) ลม	อ่านสะกดคำว่า	_____	
๕) ลบ	อ่านสะกดคำว่า	_____	
๖) เดิน	อ่านสะกดคำว่า	_____	

คำชี้แจง ให้นักเรียนเขียนคำศัพท์จากคำอ่านสะกดคำที่กำหนดให้ถูกต้อง

ตัวอย่าง	ขอ-อัว-ดอ-หวด
๑) รอ-เอีย-นอ-	_____
๒) ลอ-ออ-งอ-ลอง	ลอง-เอก-_____
๓) ยอ-แอ-กือ-	_____
๔) ยอ-เอะ-นอ-	_____
๕) สอ-อะ-นอ-สัน	สัน-เอก-_____
๖) ตอ-ออ-งอ-ตอง	ตอง-โท-_____

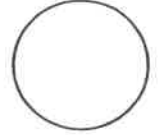


ใบงานที่ 4 วิชา ภาษาไทย ชั้นประถมศึกษาปีที่ 3 ภาคเรียนที่ 1

คะแนน

หน่วยที่ 1 เรื่อง การผันวรรณยุกต์

มาตรฐาน/ตัวชี้วัด ท4.1ป3/1 อธิบายความหมายของคำและข้อความที่อ่าน



ชื่อ - สกุล ชั้น เลขที่.....

ครูผู้สอน นางชุจิต ธีระจันทร์

เบอร์โทร 087- 0422097

คำชี้แจง ให้นักเรียนเขียนคำที่กำหนดให้แล้วฝึกอ่านให้คล่อง

ตัวอย่าง	ขยำ	อ่านว่า	ชะ-หย่ำ
๑.	สมุด	อ่านว่า	_____
๒.	แถลง	อ่านว่า	_____
๓.	หนด	อ่านว่า	_____
๔.	อร้อย	อ่านว่า	_____
๕.	เหยือก	อ่านว่า	_____
๖.	ขนาบ	อ่านว่า	_____
๗.	โสร่ง	อ่านว่า	_____
๘.	แสลง	อ่านว่า	_____

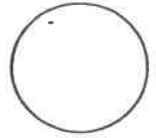
คำชี้แจง ให้นักเรียนเลือกคำที่กำหนดให้เติมลงในช่องว่างให้ได้ใจความ

- แม่กวาด _____ บนพาดาน (อยากไย่, หยากไย่)
- เด็กดียอมเป็น _____ ที่ดีของเพื่อน ๆ (ตัวอย่าง, ตัวอย่าง)
- ทุก ๆ วันเสาร์พ่อจะ _____ บ้าน ไม่ไปทำงาน (หยุด, อยู่)
- การ _____ ร่างของพ่อแม่ทำให้ลูกมีปัญหาได้ (หย่ำ, อย่ำ)
- พ่อแม่ทุกคน _____ ให้ลูกเป็นคนดี (หยาก, อยาก)



ใบงานที่ 5 วิชา ภาษาไทย ชั้นประถมศึกษาปีที่ 3 ภาคเรียนที่ 1
 หน่วยที่ 1 เรื่อง การผันวรรณยุกต์
 มาตรฐานตัวชี้วัด ท4.1ป3/1 อธิบายความหมายของคำและข้อความที่อ่าน

คะแนน





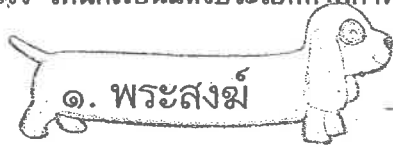


ชื่อ - สกุล ชั้น เลขที่

ครูผู้สอน นางชุติฉิ ธีระจันทร์

เบอร์โทร 087- 0422097

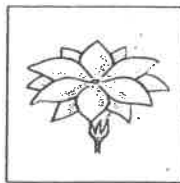
คำชี้แจง ให้นักเรียนแต่งประโยคคำที่กำหนดให้




คำชี้แจง ให้นักเรียนเติมพยางค์ที่ขาดหายไปให้ได้คำที่ตรงกับภาพ



_____ รอก



_____ ลี



_____ บู้



_____ เป้า




_____ ทาร



_____ กร้า



_____ ตา



_____ เล

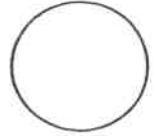


_____ มุก



ใบงานที่ 6 วิชา ภาษาไทย ชั้นประถมศึกษาปีที่ 3 ภาคเรียนที่ 1

คะแนน



หน่วยที่ 1 เรื่อง การผันวรรณยุกต์

มาตรฐาน/ตัวชี้วัด ท4.1ป3/1 อธิบายความหมายของคำและข้อความที่อ่าน

ชื่อ - สกุล ชั้น เลขที่.....

ครูผู้สอน นางชูจิต ธีระจันทร์

เบอร์โทร 087- 0422097

คำชี้แจง ให้นักเรียนเลือกคำที่กำหนดให้เติมลงในช่องว่างให้ได้ใจความ

๑. ที่ต่างจังหวัดมี _____ ที่สวยงามมาก (ธรรมชาติ, ทัศนชาติ)
๒. เอก _____ ความรู้ที่ได้จากบทเรียน (บันทึก, บรรทึก)
๓. เด็กดีควรได้รับการ _____ (สนเสริญ, สรรเสริญ)
๔. ดนตรีช่วย _____ ใจได้เป็นอย่างดี (จันโลง, จรรโลง)
๕. อาการป่วยของเขาค่อย ๆ _____ ลง เมื่อได้รับการพักผ่อน (บันเทา, บรรเทา)
๖. ชาว _____ มักเสนอข่าวเกี่ยวกับกิจกรรมของดารา (บรรเทิง, บันเทิง)

คำชี้แจง ให้นักเรียนเขียนคำอ่านที่กำหนดให้

๑. ฤทัย	อ่านว่า	_____
๒. ฤดู	อ่านว่า	_____
๓. ประพฤติ	อ่านว่า	_____
๔. ฤดี	อ่านว่า	_____
๕. ฤษี	อ่านว่า	_____
๖. นฤมล	อ่านว่า	_____
๗. พฤक्षा	อ่านว่า	_____
๘. ฤทธิ	อ่านว่า	_____
๙. ฤกษ์	อ่านว่า	_____
๑๐. คฤหาสน์	อ่านว่า	_____



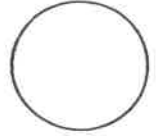


ใบงานที่ 7 วิชา ภาษาไทย ชั้นประถมศึกษาปีที่ 3 ภาคเรียนที่ 1

คะแนน

หน่วยที่ 1 เรื่อง การผันวรรณยุกต์

มาตรฐาน/ตัวชี้วัด ท4.1ป3/1 อธิบายความหมายของคำและข้อความที่อ่าน




ชื่อ - สกุล ชั้น เลขที่.....

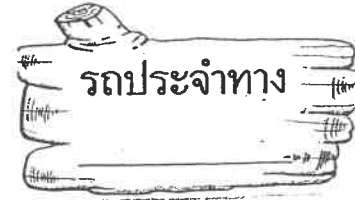


ครูผู้สอน นางชอุติ ธีระจันทร์

เบอร์โทร 087- 0422097

คำชี้แจง ให้นักเรียนบอกคำที่กำหนดให้มีที่พยางค์



คำชี้แจง ให้นักเรียนบอกคำหรือข้อความที่กำหนดให้เป็นคำหรือกลุ่มคำ



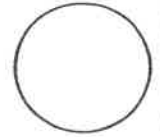


ใบงานที่ 8 วิชา ภาษาไทย ชั้นประถมศึกษาปีที่ 3 ภาคเรียนที่ 1

คะแนน

หน่วยที่ 1 เรื่อง การผันวรรณยุกต์

มาตรฐานตัวชี้วัด ท4.1ป3/1 อธิบายความหมายของคำและข้อความที่อ่าน



ชื่อ - สกุล ชั้น เลขที่

ครูผู้สอน นางชอุทิศ ธีระจันทร์

เบอร์โทร 087- 0422097

คำชี้แจง ให้นักเรียนนำคำที่อ่านในวงเล็บมาเขียนเป็นคำที่ถูกต้องเติมลงในช่องว่าง

๑.ในภาษาไทยมี ๔ รูป ๕ เสียง (วัน - นะ - ยุก)

๒.ของเขาเป็นคนใจดี (พัน - ระ - ยา)

๓. หน่วย.....สาธารณภัยเข้าช่วยเหลือผู้ถูกน้ำท่วม (บัน - เทา)

๔. เด็กคนนี้มี.....งดงามมาก (มัน - ยาด)

๕. นรก ตรงข้ามกับคำว่า..... (สะ - หวัน)

๖. เขาได้รับคัดเลือกให้เป็น.....ห้อง (กำ - มะ - กาน)

๗.แปลว่า ตาย (สะ - หวัน - คด)

๘. นักเรียนทุกคนร้องเพลง.....พระบารมี (สัน - เลิน)

๙. แม่ใช้.....ตัดผ้า (กัน - ไกร)

๑๐. ฉันชอบอ่าน.....เรื่องแก้วหน้าม้า (วัน - นะ - คะ - ดี)

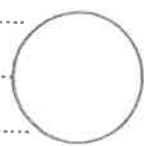


ใบงานที่ 1. วิชา คณิตศาสตร์ ชั้น ป. 3 ภาคเรียนที่ 1

คะแนน

หน่วยที่ 1 เรื่อง จำนวนนับไม่เกิน 100000

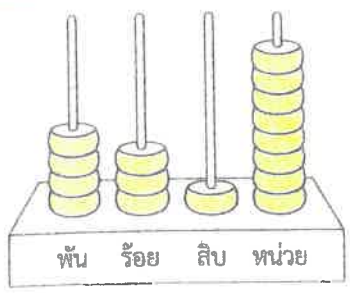
มาตรฐานตัวชี้วัด ต. 1.1 ป. 3/1 อ่านและเขียนตัวเลขฮินดูอารบิก ตัวเลขไทย และตัวหนังสือ



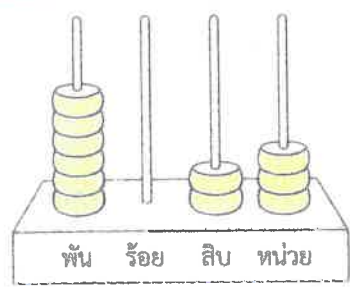
ชื่อ - สกุล ชั้น เลขที่.....

ครูผู้สอน...ครูอรุณจิตต์ เอกชาโรนุค ครูสุจิตา ชัยรัตน์ เบอร์โทร. 002-9403995, 099-0422097

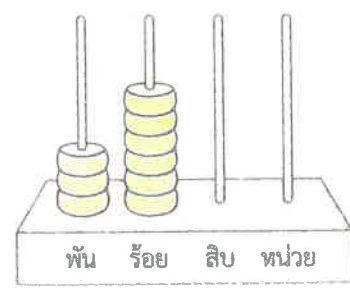
เขียนตัวเลขฮินดูอารบิก ตัวเลขไทย และตัวหนังสือแสดงจำนวน



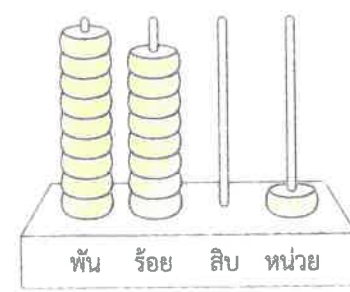
ตัวเลขฮินดูอารบิก
ตัวเลขไทย
ตัวหนังสือ



ตัวเลขฮินดูอารบิก
ตัวเลขไทย
ตัวหนังสือ



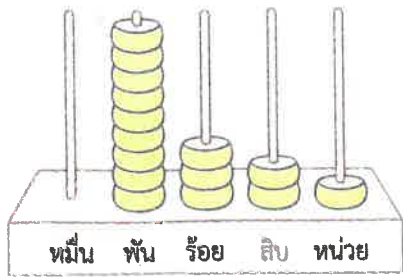
ตัวเลขฮินดูอารบิก
ตัวเลขไทย
ตัวหนังสือ



ตัวเลขฮินดูอารบิก
ตัวเลขไทย
ตัวหนังสือ

เขียนตัวเลขและตัวหนังสือแสดงจำนวน

1)

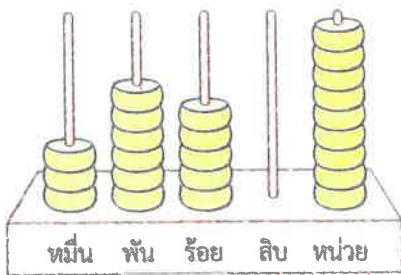


ตัวเลขฮินดูอารบิก

ตัวเลขไทย

ตัวหนังสือ

2)

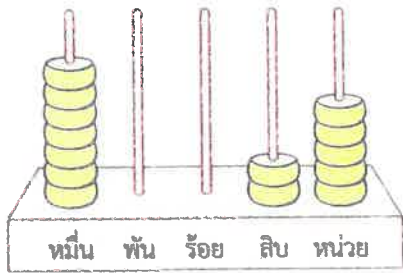


ตัวเลขฮินดูอารบิก

ตัวเลขไทย

ตัวหนังสือ

3)

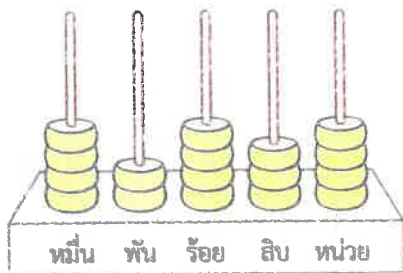


ตัวเลขฮินดูอารบิก

ตัวเลขไทย

ตัวหนังสือ

4)

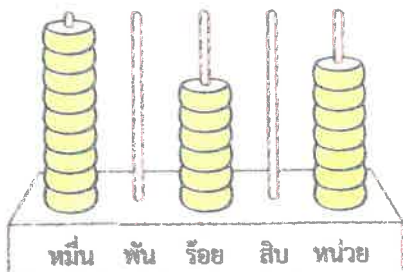


ตัวเลขฮินดูอารบิก

ตัวเลขไทย

ตัวหนังสือ

5)



ตัวเลขฮินดูอารบิก

ตัวเลขไทย

ตัวหนังสือ



ใบงานที่ 2 วิชา คณิตศาสตร์ ชั้น ป.3 ภาคเรียนที่ 1

คะแนน

หน่วยที่ 1 เรื่อง การเปรียบเทียบเศษส่วน

มาตรฐานตัวชี้วัด ค.1.1 ป.3/2 เปรียบเทียบและเรียงลำดับจำนวนอนันต์ไม่เกิน 100,000

ชื่อ - สกุล ชั้น ป.3 เลขที่

ครูผู้สอน ครูอรุณี เอกตระกูล ครูสุจิต วิริยะพันธ์ เบอร์โทร. 092-8403995, 097-0422097

เติมคำตอบและเครื่องหมาย < หรือ >

1) เปรียบเทียบ 8,912 กับ 9,610
 8,912 ในหลักพัน มีค่า
 9,610 ในหลักพัน มีค่า
 ดังนั้น 8,912 9,610

2) เปรียบเทียบ 30,178 กับ 18,906
 30,178 ในหลักหมื่น มีค่า
 18,906 ในหลักหมื่น มีค่า
 ดังนั้น 30,178 18,906

3) เปรียบเทียบ 51,612 กับ 28,734
 51,612 ในหลักหมื่น มีค่า
 28,734 ในหลักหมื่น มีค่า
 ดังนั้น 51,612 28,734

4) เปรียบเทียบ 21,870 กับ 25,430
 21,870 ในหลักหมื่น มีค่า
 25,430 ในหลักหมื่น มีค่า
 21,870 ในหลักพัน มีค่า
 25,430 ในหลักพัน มีค่า
 ดังนั้น 21,870 25,430

เติมคำตอบและเครื่องหมาย < หรือ >



เปรียบเทียบ 45,000 กับ 8,200

45,000 เป็นจำนวน ...ห้า... หลัก

8,200 เป็นจำนวน ...สี่... หลัก

ดังนั้น 45,000 ...>... 8,200

หรือ 8,200 ...<... 45,000

1) เปรียบเทียบ 8,090 กับ 12,034

8,090 เป็นจำนวน หลัก

12,034 เป็นจำนวน หลัก

ดังนั้น 8,090 12,034

หรือ 12,034 8,090

2) เปรียบเทียบ 4,567 กับ 10,000

4,567 เป็นจำนวน หลัก

10,000 เป็นจำนวน หลัก

ดังนั้น 4,567 10,000

หรือ 10,000 4,567

3) เปรียบเทียบ 9,981 กับ 30,001

9,981 เป็นจำนวน หลัก

30,001 เป็นจำนวน หลัก

ดังนั้น 9,981 30,001

หรือ 30,001 9,981

4) เปรียบเทียบ 12,871 กับ 9,999

12,871 เป็นจำนวน หลัก

9,999 เป็นจำนวน หลัก

ดังนั้น 12,871 9,999

หรือ 9,999 12,871

5) เปรียบเทียบ 10,089 กับ 6,997

10,089 เป็นจำนวน หลัก

6,997 เป็นจำนวน หลัก

ดังนั้น 10,089 6,997

หรือ 6,997 10,089

6) เปรียบเทียบ 100,000 กับ 9,218

100,000 เป็นจำนวน หลัก

9,218 เป็นจำนวน หลัก

ดังนั้น 100,000 9,218

หรือ 9,218 100,000

7) เปรียบเทียบ 90,218 กับ 9,918

90,218 เป็นจำนวน หลัก

9,918 เป็นจำนวน หลัก

ดังนั้น 90,218 9,918

หรือ 9,918 90,218



ใบงานที่ ๖ วิชา คณิตศาสตร์ ชั้น ป. ๖ ภาคเรียนที่ ๑

หน่วยที่ ๑ เรื่อง จำนวนนับไม่เกิน 100,000

มาตรฐานตัวชี้วัด.ค.1.1.ป.๖/๒.เปรียบเทียบและเรียงลำดับจำนวนไม่เกิน 100,000 ตามตำแหน่งของค่า

ชื่อ - สกุล ชั้น เลขที่

ครูผู้สอน ครูอรุณีทิพย์ เอกตระกูล ครูชุติมา มีระพันธ์ เบอร์โทร ๐๙๘-๙๔๐๖๙๙๕ ๐๘๖-๐๔๒๒๐๑๗

1 เรียงลำดับจำนวนจากน้อยไปมาก

1) 8,201 9,230 10,050 9,920
.....

2) 10,530 13,650 9,340 9,430
.....

3) 3,456 4,832 3,591 30,120 30,090
.....

4) 10,450 9,956 10,025 13,340 10,209
.....

5) 89,340 25,310 83,150 80,721 76,321
.....

6) 87,990 75,908 98,762 75,342 98,769
.....

2

เรียงลำดับจำนวนจากมากไปน้อย

1) 10,000 9,087 10,456 9,009

.....

2) 21,350 23,650 19,340 29,430

.....

3) 8,912 24,832 9,809 19,210 25,100

.....

4) 50,450 59,956 50,025 53,340 60,209

.....

5) 49,345 45,316 43,158 40,776 49,980

.....

6) 24,890 93,450 89,732 54,908 23,478

.....



ใบงานที่ 4 วิชา คณิตศาสตร์ ชั้น ป.๖ ภาคเรียนที่ 1

คะแนน

หน่วยที่ 2 เรื่อง การบวก การคูณ

มาตรฐานตัวชี้วัด ค.1.1 ป.๖/๖ ท้าทายของตัวไม่ทราบค่าในประโยคสัญลักษณ์แสดงการบวก

ชื่อ - สกุล ชั้น เลขที่

ครูผู้สอน ครูอรุณจิต งามตระกูล ครูชุติมา ชีระฉัตร เบอร์โทร ๐๙๒-๘๔๐๖๙๙๕ ๐๘๖-๐๔๒๒๐๙๗

การหาผลบวกโดยการตั้งบวกไม่มีการทด

1 ทหาผลบวก

1)
$$\begin{array}{r} 413 \\ + 7316 \\ \hline \hline \end{array}$$

ตอบ

2)
$$\begin{array}{r} 421 \\ + 5372 \\ \hline \hline \end{array}$$

ตอบ

3)
$$\begin{array}{r} 8250 \\ + 1035 \\ \hline \hline \end{array}$$

ตอบ

4)
$$\begin{array}{r} 812 \\ + 2160 \\ \hline \hline \end{array}$$

ตอบ

5)
$$\begin{array}{r} 21261 \\ + 8532 \\ \hline \hline \end{array}$$

ตอบ

6)
$$\begin{array}{r} 5126 \\ + 92101 \\ \hline \hline \end{array}$$

ตอบ

2 แสดงวิธีหาผลบวก

1) $5,192 + 73,106 = \square$

วิธีทำ

.....

.....

.....

ตอบ

2) $6,305 + 63,051 = \square$

วิธีทำ

.....

.....

.....

ตอบ

3) $12,559 + 63,000 = \square$

วิธีทำ

.....

.....

.....

ตอบ

4) $65,540 + 24,359 = \square$

วิธีทำ

.....

.....

.....

ตอบ

5) $88,454 + 11,234 = \square$

วิธีทำ

.....

.....

.....

ตอบ

6) $38,759 + 50,240 = \square$

วิธีทำ

.....

.....

.....

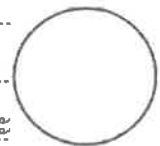
ตอบ



ใบงานที่ 1 วิชา วิทยาศาสตร์ ชั้น ป.3 ภาคเรียนที่ 1

คะแนน

หน่วยที่ 2 เรื่อง ปัจจัยในการดำรงชีวิตของมนุษย์และสัตว์



มาตรฐาน/ตัวชี้วัด ว 1.2 ป3/1 บรรยายสิ่งที่จำเป็นต่อการดำรงชีวิตและการเจริญเติบโตของมนุษย์และสัตว์ โดยใช้ข้อมูลที่รวบรวมได้

ชื่อ - สกุล ชั้น เลขที่.....

ครูผู้สอน ครูอรุณจิตติ เอกตระกูล เบอร์โทร 092-8403995

เรื่อง ปัจจัยในการดำรงชีวิตของมนุษย์และสัตว์

คำชี้แจง ใส่เครื่องหมาย ✓ หน้าข้อความที่ถูกต้อง และ ✗ หน้าข้อความที่ไม่ถูกต้อง

-1.ปัจจัยสำคัญในการดำรงชีวิตของคนและสัตว์ ได้แก่ น้ำ อาหาร อากาศ
-2.คน สัตว์ พืช จัดเป็นสิ่งมีชีวิต
-3.ปัจจัยสำคัญในการดำรงชีวิตของมนุษย์และสัตว์ที่สำคัญที่สุด คือ อาหารเสริม
-4.อาหารมีประโยชน์ต่อคนและสัตว์คือ ช่วยให้ร่างกายแข็งแรง และเจริญเติบโต
-5.ใน 1 วันเราควรดื่มน้ำวันละ 1-2 แก้ว ซึ่งจะเพียงพอต่อการดำรงชีวิตของเรา
-6.สัตว์ทุกชนิดถ้าขาดอาหารเป็นเวลานานๆ จะทำให้ตายได้
-7.พืชและสัตว์ต้องการก๊าซคาร์บอนไดออกไซด์ในการหายใจ
-8.สัตว์ที่อาศัยอยู่ในน้ำ ต้องการอาหารและน้ำเท่านั้นในการหายใจ
-9.สัตว์แต่ละชนิดกินอาหารเหมือนๆ กัน
-10.ถ้าสัตว์เลี้ยงไม่สบายเราควรพาไปพบ สัตวแพทย์
-11.ปัจจัยในการเจริญเติบโตและการดำรงชีวิตของสัตว์ ได้แก่ น้ำ อาหาร อากาศ ที่อยู่อาศัย
-12.ช้าง ม้า เสือ ยีราฟ เป็นสัตว์กินพืชเป็นอาหาร
-13.สุนัข แมว ไก่ เป็ด เป็นสัตว์ที่กินทั้งพืชและสัตว์เป็นอาหาร
-14.คนและสัตว์ต้องการก๊าซออกซิเจนในการหายใจ
-15.กบ อึ่งอ่าง คางคก จัดเป็นสัตว์ครึ่งบกครึ่งน้ำ
-16.เราควรกักบริเวณสัตว์เลี้ยงในพื้นที่ที่จำกัดตลอดเวลาเพื่อความปลอดภัย
-17.เราควรเลือกกินอาหารเฉพาะที่ตนเองชอบเท่านั้น
-18.เราไม่ควรดื่มน้ำมากๆ เพราะจะทำให้ปัสสาวะบ่อยๆ
-19.ควรสวมหน้ากากอนามัยเพื่อป้องกันเชื้อโรคและเมื่อต้องผ่านบริเวณที่มีฝุ่นละออง
-20.รับประทานอาหารให้ครบ 5 หมู่ ออกกำลังกายสม่ำเสมอ และพักผ่อนให้เพียงพอจะช่วยให้ร่างกายแข็งแรงได้



ใบงานที่ 2 วิชา วิทยาศาสตร์ ชั้น ป.3 ภาคเรียนที่ 1

คะแนน

หน่วยที่ 2 เรื่อง วัฏจักรชีวิตของสัตว์

มาตรฐาน/ตัวชี้วัด 2.1.2 ป.3/3 สร้างแบบจำลองที่บรรยายวัฏจักรชีวิตของสัตว์ และเปรียบเทียบวัฏจักรชีวิตของสัตว์บางชนิด

ชื่อ - สกุล ชั้น เลขที่

ครูผู้สอน คุณครูอรุณจิตติ เอกตระกูล เบอร์โทร 092-8403995

เรื่อง วัฏจักรชีวิตของสัตว์

คำชี้แจง เลือกคำในวงเล็บมาเติมในช่องว่างให้ถูกต้อง

- เต่า กระจก เปิด ไข่ ออกลูกเป็น.....(ตัว / ไข่)
- กวาง เสือ ช้าง โลมา ออกลูกเป็น.....(ตัว / ไข่)
- สุนัข แมว ไข่ กิน..... เป็นอาหาร (ฟืช / ทั้งพืชและสัตว์)
- ไข่ → → ตัวโม่ง → ยุง (ลูกน้ำ / ลูกอ๊อด)
- ไข่ → หนอน → → ผีเสื้อ (ตัวอ่อน / ดักแด้)
- ไข่ → ลูกอ๊อด → (กบ / ไข่)
- ตัวอ่อน → ตัวเต็มวัย สัตว์ชนิดนี้คือ..... (เป็ด / แมว)
- สัตว์ชนิดใดมีวัฏจักรชีวิตเหมือนมนุษย์ (โลมา / ปลาทุ)
- ระยะดักแด้ของผีเสื้อเปรียบได้กับระยะใดของยุง..... (ลูกน้ำ / ตัวโม่ง)
- สัตว์ชนิดใดที่วัฏจักรชีวิต เริ่มต้นอยู่ในน้ำ เมื่อเจริญเติบโตจนเป็นตัวเต็มวัยจึงขึ้นมาอาศัยอยู่บนบก (กบ / เต่า)



ใบงานที่ ๕ วิชา.....วิทยาศาสตร์.....ชั้น.....ป.๖.....ภาคเรียนที่ 1.....

คะแนน

หน่วยที่ ๕ เรื่อง.....วัสดุความรู้.....
มาตรฐานตัวชี้วัด ๑.๔.1.๖/1 อธิบายว่าวัสดุประกอบขึ้นจากชิ้นส่วนย่อยซึ่งสามารถแยกออกจากกันได้

ชื่อ - สกุล.....ชั้น.....เลขที่.....

ครูผู้สอน.....คุณครู อรุณรัตน์ เดกตระกูล.....เบอร์โทร.....๐๑๒ ๕๕๐๓๑๑๕.....

วง ○ ล้อมรอบตัวอักษรหน้าคำตอบที่ถูกต้อง

- ฝ้ายบ้านที่ทำจากไม้ เมื่อแยกชิ้นส่วนย่อยแล้ว สามารถประกอบเป็นวัตถุชิ้นใหม่ในข้อใด
 - ประตูและเสา
 - โต๊ะและตู้เย็น
 - เตาอบและโซฟา
 - เก้าอี้และเตียงนอน
- ข้อใดไม่ได้เกิดจากการประกอบชิ้นส่วนย่อยของตัวบ้านที่ทำจากอิฐ
 - ทางเดิน
 - หน้าต่าง
 - ซุ้มประตู
 - กำแพงบ้าน
- ถ้าต้องการทำชิ้นวางของที่ทำจากเหล็ก ควรใช้ชิ้นส่วนย่อยของวัตถุในข้อใด
 - พัดลม
 - เก้าอี้โยก
 - ตู้เอกสาร
 - เครื่องซักผ้า
- วัตถุในข้อใดประกอบขึ้นจากชิ้นส่วนย่อยที่แตกต่างจากข้ออื่น
 - กระดิ่ง
 - กระบุง
 - กระจาด
 - กระสอบ
- ข้อใดจับคู่ชิ้นส่วนย่อยของวัตถุที่นำไปประกอบเป็นวัตถุชิ้นใหม่ได้เหมาะสมที่สุด
 - โต๊ะไม้-เก้าอี้ไม้
 - ผ้าปูที่นอน-ผ้าคลุมรถ
 - สมุดบันทึก-วาวกระดาษ
 - ถังพลาสติก-จานพลาสติก

6. ข้อใดไม่ใช่การเปลี่ยนแปลงของวัสดุที่เกิดจากการให้ความร้อน

ก. การหุงข้าว

ข. การทอดไก่

ค. การทำสลัดผัก

ง. การทำกล้วยตาก

7. จากภาพ วัสดุมีการเปลี่ยนแปลงด้านใด



ก. สี กลิ่น รูปร่าง

ข. สี กลิ่น รสชาติ

ค. สี รูปร่าง รสชาติ

ง. กลิ่น รูปร่าง รสชาติ

8. ข้อใดเป็นการเปลี่ยนแปลงของวัสดุที่เกิดจากการทำให้วัสดุเย็นลง

ก. การทำคุกกี้

ข. การทำไอศกรีม

ค. การทำน้ำเชื่อม

ง. การทำผลไม้แช่อิ่ม

9. การคว่ำถั่วลิสงเป็นการเปลี่ยนแปลงของวัสดุที่เกิดจากอะไร

ก. การบีบอัด

ข. การบดละเอียด

ค. การทำให้เย็นลง

ง. การให้ความร้อน

10. การเปลี่ยนแปลงของวัสดุในข้อใดทำให้เกิดโทษ

ก. การอบผ้า

ข. การต้มน้ำดื่ม

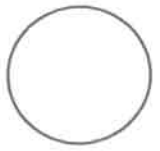
ค. การเผากระดาษ

ง. การแช่ผักในน้ำส้มสายชู



ใบงานที่ 1 วิชา.....คอมพิวเตอร์.....ชั้นประถมศึกษาปีที่ 3 ภาคเรียนที่ 1
หน่วยที่1..... เรื่อง.....ข้อมูล.....

คะแนน



มาตรฐาน/ตัวชี้วัด.....ง 3.1 ป.3/1ค้นหาข้อมูลอย่างมีขั้นตอน และนำเสนอข้อมูลในลักษณะต่าง ๆ.....

ชื่อ - สกุล ชั้น เลขที่.....

ครูผู้สอน.....วันสมภพ บุตรสละ..... เบอร์โทร.....084-0040898.....

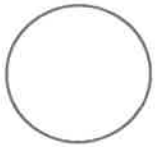
คำชี้แจง : ให้นักเรียนกรอกข้อมูลเกี่ยวกับสมาชิกในครอบครัวของนักเรียนตามรายการดังต่อไปนี้

ฉันชื่อ นามสกุล.....
 วัน / เดือน / ปี เกิด
 ที่อยู่ บ้านเลขที่ ถนน.....
 ตำบล..... อำเภอ.....
 จังหวัด รหัสไปรษณีย์
 คุณพ่อชื่อ นามสกุล
 วัน / เดือน / ปี เกิด..... อาชีพ.....
 คุณแม่ชื่อ นามสกุล
 วัน / เดือน / ปี เกิด..... อาชีพ.....
 ฉันมีพี่น้องทั้งหมด คน ชาย.....คน หญิงคน
 พี่ชาย / น้องชายของฉัน ชื่อ..... นามสกุล.....
 พี่สาว / น้องสาวของฉัน ชื่อ..... นามสกุล.....
 ขณะนี้ฉันกำลังเรียนอยู่ชั้น
 โรงเรียน อำเภอ.....
 จังหวัด รหัสไปรษณีย์
 ใบงานนี้เป็นส่วนหนึ่งของวิชา.....
 คุณครูผู้สอน.....
 ผู้อำนวยการโรงเรียนของฉันคือ.....



ใบงานที่ ๒ วิชา.....คอมพิวเตอร์.....ชั้นประถมศึกษาปีที่ 3 ภาคเรียนที่ 1
หน่วยที่1..... เรื่อง.....ข้อมูล.....

คะแนน



มาตรฐาน/ตัวชี้วัด.....ง 3.1 ป.3/1 ค้นหาข้อมูลอย่างมีขั้นตอน และนำเสนอข้อมูลในลักษณะต่าง ๆ.....

ชื่อ - สกุล ชั้น เลขที่.....

ครูผู้สอน.....วันสมภพ บุตรสละ..... เบอร์โทร.....084-0040898.....

คำชี้แจง : ให้นักเรียนกรอกข้อมูลเกี่ยวกับสมาชิกในครอบครัวของนักเรียนตามรายการดังต่อไปนี้

มาตรฐาน ง 3.1 ป.3/1 ค้นหาข้อมูลอย่างมีขั้นตอน และนำเสนอข้อมูลในลักษณะต่างๆ

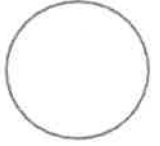
คำชี้แจง ให้นักเรียนบอกแหล่งค้นหาข้อมูลที่เป็นบุคคลตามหัวข้อต่อไปนี้ อย่างละ 2 แหล่งข้อมูล

ข้อมูล	แหล่งข้อมูล
ความหมายของคอมพิวเตอร์	
ข่าว	
วิธีการทำนา	
วิธีปลูกต้นไม้	
แนวทางการป้องกันอาชญากรรม คอมพิวเตอร์	



ใบงานที่...1...วิชา.....สังคมศึกษา.....ชั้น..ประถมศึกษาปีที่..3.....ภาคเรียนที่.....1.....
หน่วยที่1..... เรื่อง.....พุทธประวัติ.....
มาตรฐาน/ตัวชี้วัด.....ส1.1 ป3/2.....

คะแนน



ชื่อ - สกุล ชั้น เลขที่.....
ครูผู้สอน.....คุณครูวารีย์ กิจอินทรีย์..... เบอร์โทร.....083-2701758.....

คำชี้แจง ให้นักเรียนดูภาพเหตุการณ์แล้วเขียนอธิบายรูปภาพ ว่าเป็นเหตุการณ์ใดในพุทธประวัติ



เหตุการณ์
เจ้าชายสิทโธตตะ.....
เมื่อวันขึ้นค่ำ เดือน

เหตุการณ์
พระชนมายุพรรษา



เหตุการณ์
พระชนมายุพรรษา

เหตุการณ์
พระชนมายุพรรษา

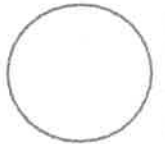
ให้นักเรียนยกตัวอย่างการปฏิบัติตนเป็นคนดีมา 3 ข้อ

- 1.....
- 2.....
- 3.....



ใบงานที่...2...วิชา.....สังคมศึกษา.....ชั้น..ประถมศึกษาปีที่ .3.....ภาคเรียนที่.....1.....

คะแนน



หน่วยที่1..... เรื่อง.....เครื่องยึดเหนี่ยวจิตใจ.....

มาตรฐาน/ตัวชี้วัด.....ส.1.1 ป3/7.....

ชื่อ - สกุล ชั้น เลขที่.....

ครูผู้สอน.....คุณครูวารีย์ กิจอินทรีย์..... เบอร์โทร.....083-2701758.....

คำชี้แจง ให้นักเรียนเติมข้อความ ให้สัมพันธ์กับรูปภาพที่กำหนดให้

ศาสนบุคคล หมายถึง บุคคลที่ทำหน้าที่สืบทอดศาสนา

ศาสนาพุทธ

ศาสนาคริสต์


ศาสนาอิสลาม

ศาสนาพราหมณ์-ฮินดู






เรียกว่า

ศาสนวัตถุ หมายถึง สิ่งของที่เกี่ยวข้องกับศาสนา เป็นสิ่งที่เคารพบูชา



เรียกว่า

ศาสนสถาน หมายถึง สถานที่ หรือ สิ่งก่อสร้างที่ใช้ในการประกอบพิธีกรรม



เรียกว่า

วิธีการปฏิบัติตนต่อศาสนบุคคล คือ

วิธีการปฏิบัติตนต่อศาสนวัตถุ คือ

วิธีการปฏิบัติตนต่อศาสนสถาน คือ



ใบงานที่...3...วิชา.....สังคมศึกษา.....ชั้น..ประถมศึกษาปีที่ .3.....ภาคเรียนที่.....1.....

คะแนน

หน่วยที่1..... เรื่อง.....ศาสนานำรู้.....

มาตรฐาน/ตัวชี้วัด.....ส.1.1 ป3/1 ป3/2 ,ป3/3, ป3/4 , ป3/7.....

ชื่อ - สกุล ชั้น เลขที่.....

ครูผู้สอน.....คุณครูวาริ กิจอินทรีย์..... เบอร์โทร.....083-2701758.....

คำชี้แจง ให้นักเรียน X เลือกคำตอบที่ถูกต้องเพียงคำตอบเดียว

- รากฐานสำคัญของวัฒนธรรมไทยส่วนมาก มาจากศาสนาใด
ก. พุทธ ข. คริสต์ ค. อิสลาม ง. ลิกซ์
- ข้อใด ไม่ใช่ เอกลักษณ์ของคนไทย
ก. การกราบการไหว้ ข. การมีจิตใจเมตตา ค. การมีจิตใจเอื้อเฟื้อ ง. การพูดเอาแต่ได้ฝ่ายเดียว
- คัมภีร์ไบเบิล คือคัมภีร์ของศาสนาใด
ก. พุทธ ข. คริสต์ ค. อิสลาม ง. ลิกซ์
- มัสยิด เป็นศาสนสถานของศาสนาใด
ก. พุทธ ข. คริสต์ ค. อิสลาม ง. ลิกซ์
- เจ้าชายสิทหัตถะทรงอภิเษกสมรส กับใคร
ก. พระนางสิริมหามายา ข. พระนางยโสธรา ค. พระนางปชาบดี ง. พระนางมณฑิ
- ประเพณีใดเป็นพิธีกรรมของศาสนาคริสต์
ก. ทำบุญ-ตักบาตร ข. ส้างบาป ค. ถือศีลอด ง. ทอดกฐิน
- พี่น้องชาวมุสลิม จะ ไปประกอบพิธีละหมาดที่ใด
ก. มัสยิด ข. โบสถ์ ค. วิหาร ง. เทวสถาน
- ข้อใดเป็นศาสนบุคคลของศาสนา พราหมณ์-ฮินดู

ก.



ค.



ข.



ง.



9. พระพุทธเจ้าทรงตรัสรู้ เมื่อพระชนมายุเท่าไร

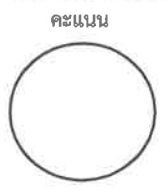
- ก. 16 พรรษา ข. 29 พรรษา ค. 35 พรรษา ง. 45 พรรษา

10. พระเยซูเจ้า เป็นศาสดาของศาสนาใด

- ก. พุทธ ข. คริสต์ ค. อิสลาม ง. พราหมณ์-ฮินดู

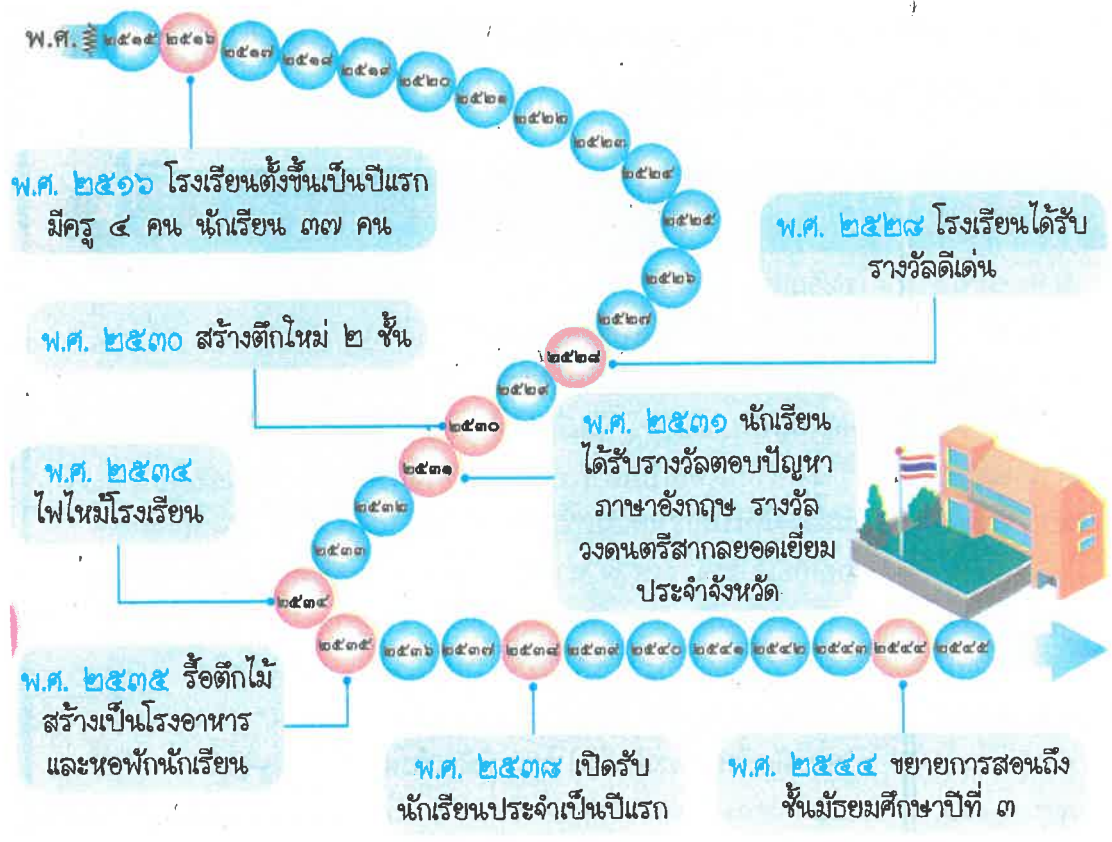


ใบงานที่ 1 วิชา ประวัติศาสตร์ ชั้นประถมศึกษาปีที่ ๑ ภาคเรียนที่ 1
หน่วยที่ 1 เรื่อง เหตุการณ์สำคัญในโรงเรียนและชุมชน
มาตรฐาน/ตัวชี้วัด ๑.1 ป.3/๑



ชื่อ - สกุล ชั้น เลขที่.....
ครูผู้สอน คุณครูวารี กิวิสินทรัพย์ เบอร์โทร 083-2701758

เหตุการณ์สำคัญของโรงเรียน



งตอบคำถามจากเหตุการณ์สำคัญของโรงเรียนด้านบน

1. ในปี พ.ศ. 2516 เกิดเหตุการณ์ใ้เกิดขึ้น

ตอบ

2. เหตุการณ์ไฟไหม้โรงเรียนเกิดขึ้นในปี พ.ศ.ใด

ตอบ

3. ชักเรียนได้ รับรางวัลตอบปัญหาภาษาอังกฤษ ในปี พ.ศ. 2531 และได้รับรางวัลอะไรอีก

ตอบ

4. โรงเรียนแห่งนี้เปิดทำการสอนถึงระดับชั้นใด

ตอบ

5. โรงเรียนแห่งนี้จัดตั้งขึ้นมาแล้ว และดำเนินการสอนกี่ปี ตอบ ปี



8/20/15

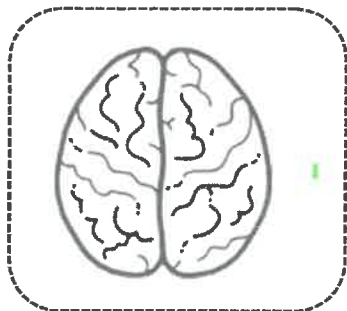
ใบงานที่ 1 วิชา ศึกษาพลศึกษา ชั้น ป.3 ภาคเรียนที่.....
 หน่วยที่..... เรื่อง สัจยธรรมดำรงร่างกาย
 มาตรฐาน/ตัวชี้วัด.....



ชื่อ - สกุล..... ชั้น ป.3 เลขที่.....
 ครูผู้สอน นางสาวนลินี ศรีสมเด็จ เบอร์โทร 081 7218036

คำชี้แจง : ให้นักเรียนบอกหน้าที่ของอวัยวะต่อไปนี้ (พ.๑.๑ ป.๓/๑)

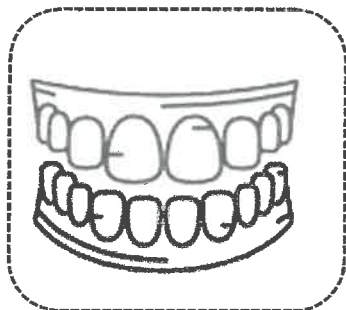
5.



อวัยวะนี้คือ.....

.....

6.



อวัยวะนี้คือ.....

.....

คำชี้แจง : ให้นักเรียนเขียนบอกการดูแลรักษาอวัยวะภายในให้ถูกต้อง (พ.๑.๑ ป.๒/๒)

1. ชื่ออวัยวะ.....การดูแลรักษา.....
2. ชื่ออวัยวะ.....การดูแลรักษา.....
3. ชื่ออวัยวะ.....การดูแลรักษา.....
4. ชื่ออวัยวะ.....การดูแลรักษา.....
5. ชื่ออวัยวะ.....การดูแลรักษา.....
6. ชื่ออวัยวะ.....การดูแลรักษา.....

เกณฑ์ประเมิน



ดี (8-10)



พอใช้ (5-7)



ควรปรับปรุง (4-0)



ลงชื่อ.....ครูผู้สอน





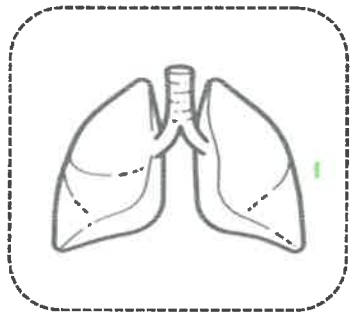
ใบงานที่ ๒. วิชา สุขศึกษา พลศึกษา ชั้น ป.๓ ภาคเรียนที่.....
หน่วยที่..... เรื่อง ผลัมภาวะทางใจ
มาตรฐาน/ตัวชี้วัด.....



ชื่อ - สกุล..... ชั้น ป.๓ เลขที่.....
ครูผู้สอน นงนภสรี คนันตยาศิ เบอร์โทร ๐๘๑ ๖๖๑๘๐๓๖

คำชี้แจง ให้นักเรียนบอกหน้าที่ของอวัยวะต่อไปนี้ (พ.๑.๑ ป.๓/๑)

1.



อวัยวะนี้คือ.....

.....
.....
.....

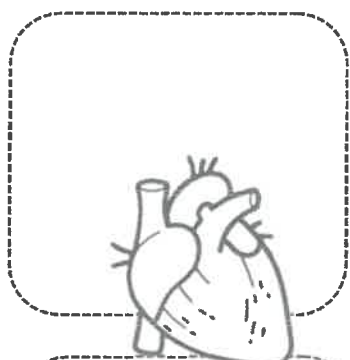
2.



อวัยวะนี้คือ.....


.....
.....
.....

3.




อวัยวะนี้คือ.....

.....
.....
.....



อวัยวะนี้คือ.....

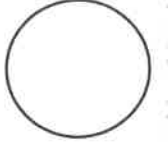
.....
.....
.....





ใบงานที่ 1 วิชา ศิลปะ ชั้น ป 3. ภาคเรียนที่ 1

คะแนน



หน่วยที่ 1 เรื่อง สร้างงานทัศนศิลป์ โดยเน้นรูปร่าง รูปทรง

มาตรฐาน/ตัวชี้วัด สร้างงานทัศนศิลป์ต่าง ๆ โดยใช้ทัศนธาตุที่เน้นเป็นรูปแบบตามธรรมชาติที่อยู่รอบตัวเรา

ชื่อ - สกุล ชั้น เลขที่.....

ครูผู้สอน. นางอรัญญา กระจ่างศิลป์ เบอร์โทร 087 - 0422097

ให้นักเรียนนำรูปแบบของ



มาออกแบบเป็นรูปต่างๆตามจินตนาการของตนเอง



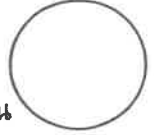
ใบงานที่ 2 วิชา ศิลปะ ชั้นประถมศึกษาปีที่ 3 ภาคเรียนที่ 1

คะแนน

หน่วยที่ 1 เรื่อง การวาดภาพระบายสีไม่ให้สวยงาม

มาตรฐาน/ตัวชี้วัด ศ1.1ป3/6วาดภาพถ่ายทอดความรู้สึกจากเหตุการณ์ในชีวิตจริง โดยใช้เส้น

รูปร่าง รูปทรง สี และพื้นผิว



ชื่อ - สกุล ชั้น เลขที่.....

ครูผู้สอน นางอรุณญา กระจ่างศิลป์

เบอร์โทร 087- 0422097

คำชี้แจง ให้นักเรียนระบายสีภาพให้สวยงาม

1. ระบายดินสอสี 1 สีไล่ระดับจากเข้มมาจางลงในช่อง

--	--	--	--	--	--

เข้ม จาง


2. ใช้ดินสอสีระบายสีภาพให้สวยงาม



8/20/5



คะแนน



ใบงานที่ 1 วิชา การงานอาชีพ ชั้นประถมศึกษาปีที่ 3 ภาคเรียนที่ 1

หน่วยที่ 1 เรื่อง หนูดูแลของใช้

มาตรฐาน/ตัวชี้วัด 1.บอกวิธีการดูแลอุปกรณ์การเรียน กระเป๋านักเรียน และรองเท้านักเรียน

2.ดูแลอุปกรณ์การเรียน กระเป๋านักเรียน และรองเท้านักเรียนอย่างเป็นขั้น เป็นตอนด้วยความขยัน

อดทน รับผิดชอบ และมีมารยาท

ชื่อ - สกุล ชั้น เลขที่.....

ครูผู้สอน ปิยะรัตน์ ฤทธิรัตน์ เบอร์โทร. 062-4925945


1. ให้นักเรียนวาดรูปของใช้ส่วนตัว 5 ชนิด พร้อมคำอธิบายใต้ภาพ



ใบงานที่ 2 วิชา การงานอาชีพ ชั้นประถมศึกษาปีที่ 3 ภาคเรียนที่ 1

คะแนน

หน่วยที่ 1 เรื่อง หนูดูแลของใช้



มาตรฐาน/ตัวชี้วัด 1.บอกวิธีการดูแลอุปกรณ์การเรียน กระเป๋านักเรียน และรองเท้านักเรียน

2.ดูแลอุปกรณ์การเรียน กระเป๋านักเรียน และรองเท้านักเรียนอย่างเป็นขั้น เป็นตอนด้วยความขยัน

อดทน รับผิดชอบ และมีมารยาท

ชื่อ - สกุล ชั้น เลขที่.....

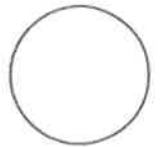
ครูผู้สอน ปิยะรัตน์ ฤทธิ์ริน เบอร์โทร. 062-4925945

1. ให้นักเรียนวาดรูปของใช้ส่วนรวม 5 ชนิด พร้อมคำอธิบายใต้ภาพ



ใบงานที่ 1 วิชาภาษาอังกฤษ ชั้นประถมศึกษาปีที่ 3 ภาคเรียนที่ 1

คะแนน



หน่วยที่ 1 เรื่อง My family

มาตรฐาน/ตัวชี้วัด ต 1.3 ป.3/1 พุฒให้ข้อมูลเกี่ยวกับตนเองและเรื่องใกล้ตัว

ชื่อ - สกุล ชั้น เลขที่.....

ครูผู้สอน ครูณัณนิตย์ บุญช่วย เบอร์โทร 087-766-8099

เติมอักษรในคำต่อไปนี้ ให้มีความหมายตรงกับภาพ


m__th__r	o, e O, E		M__TH__R
f__th__r	a, e A, E		F__TH__R
br__th__r	o, e O, E		BR__TH__R
m__	e E		M__
s__st__r	i, e I, E		S__ST__R



ใบงานที่ 1 วิชาภาษาอังกฤษ ชั้นประถมศึกษาปีที่ 3 ภาคเรียนที่ 1

คะแนน

หน่วยที่ 2 เรื่อง What are they like?



มาตรฐาน/ตัวชี้วัด ต 1.2 ป.3/3 บอกความต้องการง่ายๆของตนเองตามแบบที่ฟัง

ชื่อ - สกุล ชั้น เลขที่.....

ครูผู้สอน ครูณิชนิตย์ บุญช่วย เบอร์โทร 087-766-8099

ให้นักเรียนวงกลมล้อมรอบคำศัพท์ที่ตรงกับรูปภาพ

	happy	angry	sleepy
	fine	sad	sick
	sick	happy	sleepy
	sad	fine	happy
	angry	sleepy	sick
	sad	angry	happy




ใบงานที่...#1...วิชา.....English.....ชั้น.....P.3.....ภาคเรียนที่.....1.....

คะแนน

หน่วยที่ เรื่อง.....

มาตรฐาน/ตัวชี้วัด.....




ชื่อ - สกุล ชั้น เลขที่.....

ครูผู้สอน.....Miss Elizabeth C. Mier..... เบอร์โทร..... 0946461006.....

Instruction: Write the possible question or answer to match the dialogue. Write your answer on the space provided on the right side.


Example:




1. _____



2. _____



3. _____



4. _____



5. _____



ใบงานที่ 1 วิชา ภาษาจีน ชั้นประถมศึกษาปีที่ 3 ภาคเรียนที่ 1



หน่วยที่ 1 เรื่อง สัทอักษรภาษาจีน(พินอิน 拼音)

มาตรฐาน/ตัวชี้วัด ต1.1 ตัวชี้วัด ป.3/2 ประสมเสียง อ่านออกเสียงคำ กลุ่มคำ ประโยคและบทฝึกออกเสียงง่ายๆ ตามหลักการออกเสียง (หลักการออกเสียงพยัญชนะ)

ชื่อ - สกุล ชั้น เลขที่.....

ครูผู้สอน ครูสินีนารถ พานทอง เบอร์โทร ☎ 064-1902177

คำชี้แจง ให้นักเรียนเขียนสัทอักษรภาษาจีน(พินอิน 拼音)ตามลรอยปะที่กำหนดให้และเติมพยัญชนะที่หายไปให้ถูกต้อง

b	p	m	f	d	t
n	l	k	g	h	j
q	x	z	c	s	zh
ch	sh	r	y	w	

b		m		d	
	l		k		j
q		z		s	
	sh		y		