




ใบงานที่ 9 วิชา ภาษาไทย ชั้นประถมศึกษาปีที่ 1 ภาคเรียนที่ 1

คะแนน

หน่วยที่ 2 เรื่อง ภูเขา (การอ่านเขียนสะกดคำ)

มาตรฐานตัวชี้วัด ท4.1ป1/2 เขียนสะกดคำและบอกความหมายของคำ



ชื่อ - สกุล ชั้น เลขที่

ครูผู้สอน นางสาวสิริกร พึ่งเฮง

เบอร์โทร 086 - 1310200

คำชี้แจง ให้นักเรียนเขียนคำจากภาพและระบายสีภาพให้สวยงาม

๑.



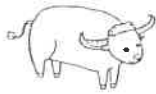
ใ



=

.....
.....
.....

๒.



ใ

ใ

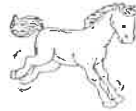
=

.....
.....
.....

๓.



ใ



=

.....
.....
.....

๔.



ใ

ใ

=

.....
.....
.....

๕.

ใ

ใ



=

.....
.....
.....

๖.



ใ

ใ

=

.....
.....
.....

๗.

ใ

ใ



=

.....
.....
.....

๘.



ใ



=

.....
.....
.....

๙.



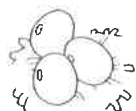
ใ



=

.....
.....
.....

๑๐.



ใ

ใ

=

.....
.....
.....

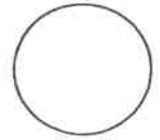


ใบงานที่ 10 วิชา ภาษาไทย ชั้นประถมศึกษาปีที่ 1 ภาคเรียนที่ 1

คะแนน

หน่วยที่ 2 เรื่อง ภูเขา (การอ่านเขียนสะกดคำ)

มาตรฐาน/ตัวชี้วัด ท4.1ป1/2 เขียนสะกดคำและบอกความหมายของคำ

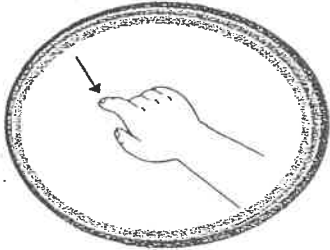


ชื่อ - สกุล ชั้น เลขที่


ครูผู้สอน นางสาวสิริกร พิงเฮง

เบอร์โทร 086 - 1310200


คำชี้แจง ให้นักเรียนเขียนคำที่มีสระ อี ลงใต้ภาพและระบายสีภาพให้สวยงาม



.....
๑. มือ




.....
๒. สี



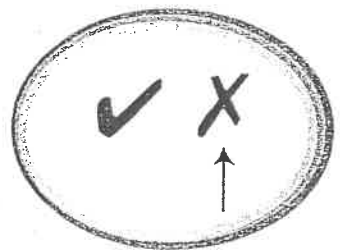
.....
๓. เลข




.....
๔.



.....
๕.



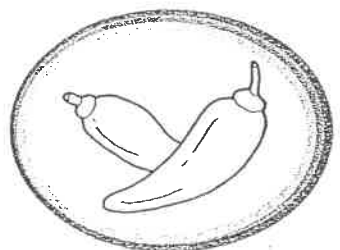
.....
๖. ถูก



.....
๗. เครื่อง



.....
๘. ปอง



.....
๙.



.....
๑๐. แข่ง




ใบงานที่ 11 วิชา ภาษาไทย ชั้นประถมศึกษาปีที่ 1 ภาคเรียนที่ 1

คะแนน

หน่วยที่ 2 เรื่อง ภูผา (การอ่านเขียนสะกดคำ)

มาตรฐานตัวชี้วัด ท4.1ป1/2 เขียนสะกดคำและบอกความหมายของคำ



ชื่อ - สกุล ชั้น เลขที่.....

ครูผู้สอน นางสาวสิริกกร พึ่งเฮง

เบอร์โทร 086 - 1310200

คำชี้แจง ให้นักเรียนเติมสระ อู ให้เป็นคำที่มีความหมาย

๑. ป ล า

๒.

	เ	ร	ย	น

๓.

		ช	น

๔.

	ม	ง		

๕.

	ก	น	

๖.

		ย	น	ต

๗.

			น	า

๘.

	ฟ	น	

๙.

		แ	ห	ง

๑๐.

			ว	น

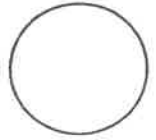


ใบงานที่ 12 วิชา ภาษาไทย ชั้นประถมศึกษาปีที่ 1 ภาคเรียนที่ 1

คะแนน

หน่วยที่ 2 เรื่อง ภูผา (การอ่านเขียนสะกดคำ)

มาตรฐาน/ตัวชี้วัด ท4.1ป1/1 บอกและเขียนพยัญชนะ สระ วรรณยุกต์และเลขไทย



ชื่อ - สกุล ชั้น เลขที่

ครูผู้สอน นางสาวสิริกร พิงเฮง


เบอร์โทร 086 - 1310200

คำชี้แจง ให้นักเรียนเขียนคำจากภาพและระบายสีภาพให้สวยงาม

๑.



๑๒



=

.....
.....
.....

๒.



๑๒



=

.....
.....
.....

๓.



๑๒



=

.....
.....
.....

๔.



๑๒



=

.....
.....
.....

๕.



๑๒



=

.....
.....
.....

๖.



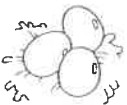
๑๒



=

.....
.....
.....

๗.



๑๒




=

.....
.....
.....

๘.



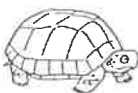
๑๒



=

.....
.....
.....

๙.



๑๒



=

.....
.....
.....

๑๐.



๑๒



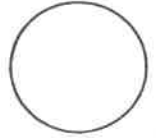
=

.....
.....
.....



ใบงานที่ 13 วิชา ภาษาไทย ชั้นประถมศึกษาปีที่ 1 ภาคเรียนที่ 1
 หน่วยที่ 2 เรื่อง ภูเขา (การอ่านเขียนสะกดคำ)
 มาตรฐาน/ตัวชี้วัด ท4.1ป1/2 เขียนสะกดคำและบอกความหมายของคำ

คะแนน



ชื่อ - สกุล ชั้น เลขที่

ครูผู้สอน นางสาวสิริกร พึ่งเฮง

เบอร์โทร 086 - 1310200

คำชี้แจง ให้นักเรียนนำคำที่กำหนดให้ทางขวามือมาเติมลงในช่องว่างให้เป็นคำที่มีความหมาย

๑. ข
ว.....



๒. แปบ.....



๓. รั้ง.....



๔. ตำ.....



๕. ดื้อ.....



๖. นอน.....



๗. น้ำ.....



๘. คิด.....



๙. ปลา.....



๑๐. บัน.....






ใบงานที่ 14 วิชา ภาษาไทย ชั้นประถมศึกษาปีที่ 1 ภาคเรียนที่ 1

คะแนน

หน่วยที่ 2 เรื่อง ภูผา (การอ่านเขียนสะกดคำ)

มาตรฐาน/ตัวชี้วัด ท4.1ป1/2 เขียนสะกดคำและบอกความหมายของคำ




ชื่อ - สกุล ชั้น เลขที่

ครูผู้สอน นางสาวสิริกร พึ่งเฮง

เบอร์โทร 086 - 1310200


คำชี้แจง ให้นักเรียนเขียนคำที่มีสระ และ ลงใต้ภาพให้ถูกต้อง



๑.




๒. ฟัน



๓. น้ำ



๔. ผม




๕.




๖. ังด



๗. คน



๘. กระดุก



๙. รองเท้า



๑๐. ตป




ใบงานที่ 15 วิชา ภาษาไทย ชั้นประถมศึกษาปีที่ 1 ภาคเรียนที่ 1

คะแนน

หน่วยที่ 2 เรื่อง ภูผา (การอ่านเขียนสะกดคำ)

มาตรฐาน/ตัวชี้วัด ท4.1ป1/2 เขียนสะกดคำและบอกความหมายของคำ



ชื่อ - สกุล ชั้น เลขที่.....

ครูผู้สอน นางสาวสิริกร พึ่งเฮง

เบอร์โทร 086 - 1310200

คำชี้แจง ให้นักเรียนนำคำที่กำหนดให้เติมลงในช่องว่างให้ถูกต้อง

คริว	ป่วย	ตัว	สวน	รวย
ง่วง	ดวง	ขวด	ชวน	ม่วง

๑.

ม	ะ			
---	---	--	--	--

๒.

			ด	า	ว
--	--	--	---	---	---

๓.

๒	ท	อ	ง			
---	---	---	---	--	--	--

๔.

ช	า	ว			
---	---	---	--	--	--

๕.

			น	อ	น
--	--	--	---	---	---

๖.

ค	น			
---	---	--	--	--

๗.

๔	เ	จ	บ			
---	---	---	---	--	--	--

๘.

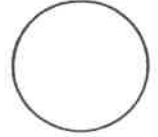
		ท	น	อ	น
--	--	---	---	---	---

๙.

๒	ช	ก			
---	---	---	--	--	--

๑๐.

			น	ม
--	--	--	---	---


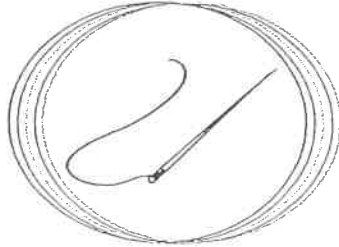



ชื่อ - สกุล ชั้น เลขที่.....

ครูผู้สอน นางสาวสิริกร พึ่งเฮง

เบอร์โทร 086 - 1310200

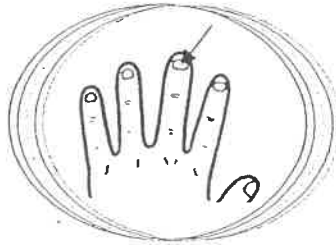
คำชี้แจง ให้นักเรียนเขียนคำที่มีสระ เอะ ลงใต้ภาพให้ถูกต้อง



๑. เสือ

๒.


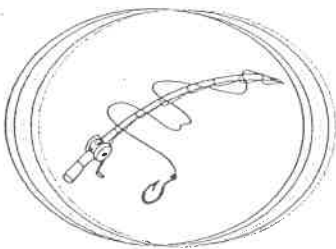
๓.



๔.

๕.

๖.



๗.

๘. รถ

๙. ลีป




๑๐. ผ้า



ใบงานที่ 9 วิชา คณิตศาสตร์ ชั้นประถมศึกษาปีที่ 1 ภาคเรียนที่ 1
 หน่วยที่ 2 เรื่อง การบวกจำนวนสองจำนวนที่มีผลบวกไม่เกิน 10
 มาตรฐานตัวชี้วัด ค1.1ป1/4หาค่าของตัวไม่ทราบค่าในประโยคสัญลักษณ์แสดงการบวก
 และประโยคสัญลักษณ์แสดงการลบของจำนวนนับไม่เกิน 100 และ 0

คะแนน



ชื่อ - สกุล ชั้น เลขที่.....

ครูผู้สอน นางสมคิด ฤกษ์ฉวี

เบอร์โทร 081- 0178057

คำชี้แจง ให้นักเรียนหาผลบวกเลขให้ถูกต้องและระบายสีภาพให้สวยงาม

1 + 1 = □

3 + 2 = □

5 + 2 = □

4 + 3 = □

6 + 4 = □

3 + 4 = □

6 + 3 = □

7 + 2 = □

5 + 5 = □


3 + 7 = □

ภาพและใบงาน By Kru Tukto



ใบงานที่ 10 วิชา คณิตศาสตร์ ชั้นประถมศึกษาปีที่ 1 ภาคเรียนที่ 1
 หน่วยที่ 2 เรื่อง การบวกจำนวนสองจำนวนที่มีผลบวกไม่เกิน 10
 มาตรฐานตัวชี้วัด ค1.1ป1/4หาค่าของตัวไม่ทราบค่าในประโยคสัญลักษณ์แสดงการบวก
 และประโยคสัญลักษณ์แสดงการลบของจำนวนนับไม่เกิน 100 และ 0

คะแนน




ชื่อ - สกุล ชั้น เลขที่

ครูผู้สอน นางสมคิด ฤกษ์ฉวี

เบอร์โทร 081- 0178057

คำชี้แจงให้นักเรียนหาผลบวกเลขให้ถูกต้องและระบายสีภาพให้สวยงาม

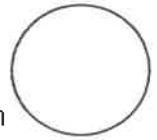
- | | | | | | |
|----|-----------|--|-----|-----------|--|
| 1. | $4 + 0 =$ | | 6. | $1 + 2 =$ | |
| 2. | $4 + 1 =$ | | 7. | $3 + 2 =$ | |
| 3. | $3 + 1 =$ | | 8. | $3 + 2 =$ | |
| 4. | $1 + 1 =$ | | 9. | $1 + 3 =$ | |
| 5. | $2 + 1 =$ | | 10. | $1 + 4 =$ | |





ใบงานที่ 11 วิชา คณิตศาสตร์ ชั้นประถมศึกษาปีที่ 1 ภาคเรียนที่ 1
หน่วยที่ 2 เรื่อง การบวกจำนวนสองจำนวนที่มีผลบวกไม่เกิน 10
มาตรฐานตัวชี้วัด ค1.1ป1/4หาค่าของตัวไม่ทราบค่าในประโยคสัญลักษณ์แสดงการบวก
และประโยคสัญลักษณ์แสดงการลบของจำนวนนับไม่เกิน 100 และ 0

คะแนน




ชื่อ - สกุล ชั้น เลขที่.....

ครูผู้สอน นางสมคิด ฤกษ์ฉวี

เบอร์โทร 081- 0178057

คำชี้แจง ให้นักเรียนหาผลบวกเลขให้ถูกต้องและระบายสีภาพให้สวยงาม



1) $4 + 3 = \square$ 2) $2 + 2 = \square$


3) $5 + 4 = \square$ 4) $6 + 3 = \square$

5) $3 + 3 = \square$ 6) $5 + 1 = \square$

7) $9 + 1 = \square$ 8) $2 + 6 = \square$

9) $6 + 3 = \square$ 10) $6 + 1 = \square$

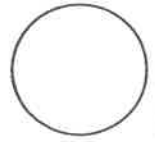
กิจกรรมเสริมการเรียนรู้





ใบงานที่ 12 วิชา คณิตศาสตร์ ชั้นประถมศึกษาปีที่ 1 ภาคเรียนที่ 1
 หน่วยที่ 2 เรื่อง การบวกจำนวนสองจำนวนที่มีผลบวกไม่เกิน 10
 มาตรฐาน/ตัวชี้วัด ค1.1ป1/4หาค่าของตัวไม่ทราบค่าในประโยคสัญลักษณ์แสดงการบวก
 และประโยคสัญลักษณ์แสดงการลบของจำนวนนับไม่เกิน 100 และ 0

คะแนน



ชื่อ - สกุล ชั้น เลขที่.....

ครูผู้สอน นางสาวสมคิด ฤกษ์จวี

เบอร์โทร 081- 0178057

คำชี้แจง ให้นักเรียนหาผลบวกเลขให้ถูกต้องและระบายสีภาพให้สวยงาม

2 + 1 + 1 = □

5 + 2 + 2 = □

3 + 2 + 1 = □

5 + 1 + 2 = □

6 + 2 + 1 = □

4 + 1 + 3 = □

4 + 5 + 1 = □

5 + 0 + 3 = □

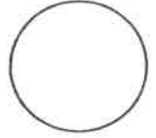
3 + 3 + 2 = □

5 + 3 + 2 = □



ใบงานที่ 13 วิชา คณิตศาสตร์ ชั้นประถมศึกษาปีที่ 1 ภาคเรียนที่ 1
 หน่วยที่ 2 เรื่อง การลบจำนวนสองจำนวนที่มีผลลบไม่เกิน 10
 มาตรฐานตัวชี้วัด ค1.1ป1/4หาค่าของตัวไม่ทราบค่าในประโยคสัญลักษณ์แสดงการบวก
 และประโยคสัญลักษณ์แสดงการลบของจำนวนนับไม่เกิน 100 และ 0

คะแนน



ชื่อ - สกุล ชั้น เลขที่

ครูผู้สอน นางสาวสมคิด ฤกษ์ฉวี

เบอร์โทร 081- 0178057

คำชี้แจง ให้นักเรียนหาผลลบเลขให้ถูกต้องและระบายสีภาพให้สวยงาม

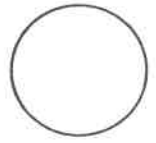
	$10 - 2 =$	$8 - 3 =$	$9 - 1 =$		
	$6 - 5 =$	$9 - 3 =$	$4 - 2 =$		
	$3 - 1 =$	$8 - 5 =$	$10 - 5 =$		
	$6 - 1 =$	$3 - 2 =$	$8 - 7 =$		
	$10 - 6 =$	$9 - 6 =$	$7 - 7 =$		





ใบงานที่ 14 วิชา คณิตศาสตร์ ชั้นประถมศึกษาปีที่ 1 ภาคเรียนที่ 1
 หน่วยที่ 2 เรื่อง การลบจำนวนสองจำนวนที่มีผลลบไม่เกิน 10
 มาตรฐาน/ตัวชี้วัด ค1.1ป1/4หาค่าของตัวไม่ทราบค่าในประโยคสัญลักษณ์แสดงการบวก
 และประโยคสัญลักษณ์แสดงการลบของจำนวนนับไม่เกิน 100 และ 0

คะแนน



ชื่อ - สกุล ชั้น เลขที่.....

ครูผู้สอน นางสมคิด ฤกษ์ฉวี

เบอร์โทร 081- 0178057

คำชี้แจง ให้นักเรียนหาผลลบเลขให้ถูกต้อง

1. $2 - 1 =$

2. $5 - 4 =$

3. $5 - 2 =$

4. $2 - 0 =$

5. $7 - 3 =$

6. $1 - 1 =$

7. $4 - 1 =$

8. $6 - 2 =$

9. $5 - 0 =$

10. $4 - 4 =$

11. $2 - 2 =$

12. $6 - 5 =$

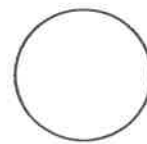
13. $5 - 1 =$

14. $3 - 0 =$



ใบงานที่ 15 วิชา คณิตศาสตร์ ชั้นประถมศึกษาปีที่ 1 ภาคเรียนที่ 1
 หน่วยที่ 2 เรื่อง การลบจำนวนสองจำนวนที่มีผลลบไม่เกิน 10
 มาตรฐานตัวชี้วัด ค.1.1ป1/4หาค่าของตัวไม่ทราบค่าในประโยคสัญลักษณ์แสดงการบวก
 และประโยคสัญลักษณ์แสดงการลบของจำนวนนับไม่เกิน 100 และ 0

คะแนน



ชื่อ - สกุล ชั้น เลขที่

ครูผู้สอน นางสาวสมคิด ฤกษ์ฉวี

เบอร์โทร 081- 0178057

คำชี้แจง ให้นักเรียนหาผลลบเลขให้ถูกต้องและระบายสีภาพให้สวยงาม

$$\begin{array}{r} 6 \\ - 3 \\ \hline \square \end{array}$$

$$\begin{array}{r} 9 \\ - 6 \\ \hline \square \end{array}$$

$$\begin{array}{r} 6 \\ - 2 \\ \hline \square \end{array}$$

$$\begin{array}{r} 7 \\ - 4 \\ \hline \square \end{array}$$

$$\begin{array}{r} 8 \\ - 4 \\ \hline \square \end{array}$$

$$\begin{array}{r} 8 \\ - 7 \\ \hline \square \end{array}$$

$$\begin{array}{r} 8 \\ - 5 \\ \hline \square \end{array}$$

$$\begin{array}{r} 9 \\ - 4 \\ \hline \square \end{array}$$

$$\begin{array}{r} 6 \\ - 1 \\ \hline \square \end{array}$$

$$\begin{array}{r} 5 \\ - 3 \\ \hline \square \end{array}$$

$$\begin{array}{r} 7 \\ - 2 \\ \hline \square \end{array}$$

$$\begin{array}{r} 9 \\ - 3 \\ \hline \square \end{array}$$

$$\begin{array}{r} 7 \\ - 5 \\ \hline \square \end{array}$$

$$\begin{array}{r} 7 \\ - 3 \\ \hline \square \end{array}$$

$$\begin{array}{r} 8 \\ - 3 \\ \hline \square \end{array}$$

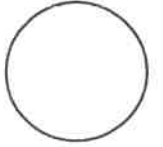
$$\begin{array}{r} 9 \\ - 7 \\ \hline \square \end{array}$$





ใบงานที่...5...วิชา.....วิทยาศาสตร์.....ชั้น..... ประถมศึกษาปีที่ 1...ภาคเรียนที่.....1.....
หน่วยที่2..... เรื่อง.....พืชรอบตัว.....

คะแนน



มาตรฐาน/ตัวชี้วัด.. 1.1 เข้าใจหน่วยพื้นฐานของสิ่งมีชีวิต ความสัมพันธ์ของโครงสร้างและหน้าที่

ชื่อ - สกุล ชั้น เลขที่.....










ครูผู้สอน.....คุณครูปานิศรา จริตศรี..... เบอร์โทร.....0948201892.....



วัตถุประสงค์ : เพื่อศึกษาประเภทของพืช

คำชี้แจง : ให้มักเรียนมาชื่อดอกไม้ ผลไม้ที่กำหนดให้ เติมลงในช่องว่างให้ถูกต้อง

แตงโม พริก กุหลาบ สับปะรด ผักกาดขาว ต้นสน มะเขือ ข้าวโพด ตำลึง

 <input type="text"/>	 <input type="text"/>	 <input type="text"/>
 <input type="text"/>	 <input type="text"/>	 <input type="text"/>
 <input type="text"/>	 <input type="text"/>	 <input type="text"/>




ใบงานที่.....6.....วิชา.....วิทยาศาสตร์.....ชั้น..... ประถมศึกษาปีที่ 1.....ภาคเรียนที่.....1.....

คะแนน

หน่วยที่1..... เรื่อง.....สิ่งต่างๆรอบตัว.....
















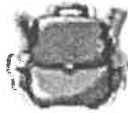




มาตรฐาน/ตัวชี้วัด.. ว 1.1 ป.1/1 เปรียบเทียบความแตกต่างระหว่างสิ่งมีชีวิตและไม่มีชีวิต



ชื่อ - สกุล ชั้น เลขที่.....

ครูผู้สอน.....คุณครูปาณิสรา จริตศรี..... เบอร์โทร.....0948201892.....

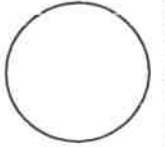
ให้นักเรียนกาเครื่องหมาย x ในช่องสี่เหลี่ยมใต้ภาพ ตามความหมายให้สัมพันธ์ตรงกับภาพ

<p>กินอาหาร</p> <div style="display: flex; justify-content: space-around;"> <div style="text-align: center;">  <input type="checkbox"/> </div> <div style="text-align: center;">  <input type="checkbox"/> </div> </div>	<p>ไม่กินอาหาร</p> <div style="display: flex; justify-content: space-around;"> <div style="text-align: center;">  <input type="checkbox"/> </div> <div style="text-align: center;">  <input type="checkbox"/> </div> </div>
<p>เจริญเติบโต</p> <div style="display: flex; justify-content: space-around;"> <div style="text-align: center;">  <input type="checkbox"/> </div> <div style="text-align: center;">  <input type="checkbox"/> </div> </div>	<p>ไม่เจริญเติบโต</p> <div style="display: flex; justify-content: space-around;"> <div style="text-align: center;">  <input type="checkbox"/> </div> <div style="text-align: center;">  <input type="checkbox"/> </div> </div>
<p>เคลื่อนที่</p> <div style="display: flex; justify-content: space-around;"> <div style="text-align: center;">  <input type="checkbox"/> </div> <div style="text-align: center;">  <input type="checkbox"/> </div> </div>	<p>ไม่เคลื่อนที่</p> <div style="display: flex; justify-content: space-around;"> <div style="text-align: center;">  <input type="checkbox"/> </div> <div style="text-align: center;">  <input type="checkbox"/> </div> </div>
<p>จับถ่าย</p> <div style="display: flex; justify-content: space-around;"> <div style="text-align: center;">  <input type="checkbox"/> </div> <div style="text-align: center;">  <input type="checkbox"/> </div> </div>	<p>ไม่จับถ่าย</p> <div style="display: flex; justify-content: space-around;"> <div style="text-align: center;">  <input type="checkbox"/> </div> <div style="text-align: center;">  <input type="checkbox"/> </div> </div>
<p>ออกลูก</p> <div style="display: flex; justify-content: space-around;"> <div style="text-align: center;">  <input type="checkbox"/> </div> <div style="text-align: center;">  <input type="checkbox"/> </div> </div>	<p>ไม่ออกลูก</p> <div style="display: flex; justify-content: space-around;"> <div style="text-align: center;">  <input type="checkbox"/> </div> <div style="text-align: center;">  <input type="checkbox"/> </div> </div>



ใบงานที่...7...วิชา.....วิทยาศาสตร์.....ชั้น..... ประถมศึกษาปีที่ 1...ภาคเรียนที่.....1.....
 หน่วยที่1..... เรื่อง.....สิ่งรอบตัวเรา.....

คะแนน



มาตรฐาน/ตัวชี้วัด.. ว 1.1 ป.1/1 เปรียบเทียบความแตกต่างระหว่างสิ่งมีชีวิตกับสิ่งไม่มีชีวิต

ชื่อ - สกุล ชั้น เลขที่.....

ครูผู้สอน.....คุณครูปาณิสรา จริตศรี..... เบอร์โทร.....0948201892.....

ใบกิจกรรมการจัดกลุ่มสิ่งไม่มีชีวิต

คำชี้แจง : จงวาดรูปสิ่งไม่มีชีวิตแต่ละกลุ่มอย่างละ 3 รูปและระบายสี


สิ่งไม่มีชีวิต ที่มนุษย์สร้างขึ้น	สิ่งไม่มีชีวิต ที่เกิดขึ้นเองตามธรรมชาติ





ใบงานที่...8...วิชา.....วิทยาศาสตร์.....ชั้น..... ประถมศึกษาปีที่ 1...ภาคเรียนที่.....1.....
 หน่วยที่4..... เรื่อง.....สิ่งรอบตัวเรา.....

คะแนน



มาตรฐาน/ตัวชี้วัด.. ว 1.1 ป.1/3 สังเกตและอธิบายลักษณะ หน้าที่และความสำคัญของอวัยวะภายนอกของ
 มนุษย์ ตลอดจนการดูแลสุขภาพ

ชื่อ - สกุล ชั้น เลขที่.....

ครูผู้สอน.....คุณครูปาณิสรา จริตศิริ..... เบอร์โทร.....0948201892.....

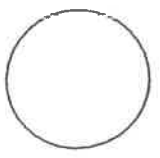
คำสั่ง ให้นักเรียนวาดภาพและระบายสีอวัยวะภายนอกที่นักเรียนรู้จักมา 1 ชนิด เช่น หู ตา จมูก ปาก แขน ขา เป็นต้น พร้อม
 เขียนวิธีดูแลสุขภาพอวัยวะนั้น



วิธีดูแลสุขภาพ _____



ใบงานที่ 3 วิชา.....คอมพิวเตอร์.....ชั้นประถมศึกษาปีที่ 1 ภาคเรียนที่ 1
หน่วยที่1.....เรื่อง.....ข้อมูล.....



มาตรฐาน/ตัวชี้วัด 3.1 ป 1/1บอกข้อมูลที่สนใจและแหล่งข้อมูลที่ อยู่ใกล้ตัว.....

ชื่อ - สกุล ชั้น เลขที่.....

ครูผู้สอน.....วันสมภพ บุตรสละ..... เบอร์โทร.....084-0040898.....

คำชี้แจง : ให้นักเรียนกรอกข้อมูลเกี่ยวกับสมาชิกในครอบครัวของนักเรียนตามรายการดังต่อไปนี้

ฉันชื่อ นามสกุล.....

วัน /เดือน /ปี เกิด

ที่อยู่ บ้านเลขที่ ถนน.....

ตำบล..... อำเภอ.....

จังหวัด รหัสไปรษณีย์.....

คุณพ่อชื่อ นามสกุล

วัน / เดือน / ปี เกิด..... อาชีพ.....

คุณแม่ชื่อ นามสกุล

วัน / เดือน / ปี เกิด..... อาชีพ.....

ฉันมีพี่น้องทั้งหมด คน ชาย.....คน หญิง

พี่ชาย / น้องชายของฉัน ชื่อ..... นามสกุล.....

พี่สาว / น้องสาวของฉัน ชื่อ..... นามสกุล.....

ขณะนี้ฉันกำลังเรียนอยู่ชั้น

โรงเรียน อำเภอ.....

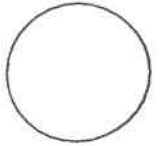
จังหวัด รหัสไปรษณีย์.....

ผู้อำนวยการ โรงเรียนของฉันคือ.....



ใบงานที่ 4 วิชา.....คอมพิวเตอร์.....ชั้นประถมศึกษาปีที่ 1 ภาคเรียนที่ 1

คะแนน



หน่วยที่1..... เรื่อง.....ข้อมูล.....

มาตรฐาน/ตัวชี้วัด ง 3.1 ป 1/1 บอกข้อมูลที่สนใจและแหล่งข้อมูลที่ อยู่ใกล้ตัว

ชื่อ - สกุล ชั้น เลขที่.....

ครูผู้สอน.....วันสมภพ บุตรสละ..... เบอร์โทร.....084-0040898.....

คำชี้แจง ให้นักเรียนทำเครื่องหมาย ✓ ลงใน ที่อยู่บนแหล่งข้อมูลที่พบในชุมชนของนักเรียน และทำ ✗ ถ้าไม่พบในชุมชน

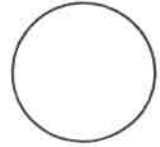
- | | |
|---|--|
| <input type="checkbox"/> วัด | <input type="checkbox"/> สนามเด็กเล่น |
| <input type="checkbox"/> ที่ว่าการอำเภอ | <input type="checkbox"/> โรงพยาบาล |
| <input type="checkbox"/> โรงเรียน | <input type="checkbox"/> สนามฟุตบอล |
| <input type="checkbox"/> ร้านขายของชำ | <input type="checkbox"/> ซุปเปอร์มาร์เกต |
| <input type="checkbox"/> ห้างสรรพสินค้า | <input type="checkbox"/> สถานีตำรวจ |





ใบงานที่...5...วิชา.....สังคมศึกษา.....ชั้น..... ประถมศึกษาปีที่ 1...ภาคเรียนที่.....1.....

คะแนน



หน่วยที่1..... เรื่อง.....พุทธประวัติ.....

มาตรฐาน/ตัวชี้วัด.. ส 1.1 ป.1/1 บอกพุทธประวัติหรือประวัติของศาสนาที่ตนนับถือโดยสังเขป


ชื่อ - สกุล ชั้น เลขที่.....

ครูผู้สอน.....คุณครูปานิสร่า จริตศรี..... เบอร์โทร.....0948201892.....

เรื่อง พุทธประวัติ

ให้นักเรียนวาดภาพพุทธประวัติตอนที่สนใจมา 1 ภาพ ลงใน แล้วตอบคำถามโดยเขียนเครื่องหมาย ✓ ลงใน

หน้าข้อความที่สอดคล้องกับภาพ



1. นักเรียนเลือกวาดภาพพุทธประวัติตอนใด

- ประสูติ
- ตรัสรู้
- ปรีชาญาณ

2. มีเหตุการณ์ใดบ้างที่เกี่ยวข้องกับพุทธประวัติในภาพที่นักเรียนวาด

(สามารถตอบได้มากกว่า 1 ข้อ)


- ประสูติตรงกับวันเพ็ญขึ้น 15 ค่ำ เดือน 6
- บำเพ็ญเพียรทางจิต
- ดับขันธปรีชาญาณเมื่อพระชนมายุ 80 พรรษา
- เผยแผ่หลักธรรมนาน 45 ปีจึงเสด็จดับขันธปรีชาญาณ
- ประสูติ ณ สวนลุมพินีวัน

หลักธรรมครั้งแรก เรียกว่า ชัมมจักกัปปวัตตนสูตร



ใบงานที่.....6.....วิชา.....สังคมศึกษา.....ชั้น..... ประถมศึกษาปีที่ 1.....ภาคเรียนที่.....1.....
 หน่วยที่.....3.....เรื่อง.....พระรัตนตรัย.....

คะแนน



มาตรฐาน/ตัวชี้วัด ส.ป.ป.1/3 บอกความหมาย ความสำคัญ และเคารพพระรัตนตรัย

ชื่อ-สกุล..... ชั้น..... เลขที่.....

ครูผู้สอน.....คุณครูปานิสร่า จริตศรี..... เบอร์โทร.....0948201892.....

คำชี้แจง : ให้นักเรียนเลือกคำที่กำหนดให้ มาเติมลงในช่องว่างหน้าข้อความให้ถูกต้อง



พระธรรม

พระสงฆ์

พระรัตนตรัย

พระพุทธ



.....



1. แก้วอันประเสริฐ 3 ประการ หมายถึง พระพุทธ พระธรรม พระสงฆ์



.....



2. ผู้ตรัสรู้ชอบด้วยพระองค์เอง แล้วนำหลักธรรมคำสอนมาเผยแผ่ให้ผู้อื่นรู้ และปฏิบัติตาม



.....



3. หลักคำสอนของพระพุทธเจ้าที่มุ่งสอนให้คนทำ ความดี ละเว้นจากการทำความชั่ว เช่น ไม่โกรธและไม่คิดร้ายต่อผู้อื่น มีจิตใจดี



.....




4. ผู้สืบทอดพระพุทธศาสนา หรือผู้ชายที่มีอายุครบ 20 ปีขึ้นไปมาบวช และปฏิบัติตามคำสอนของพระพุทธเจ้าแล้วนำมาสอนให้เราเป็นคนดี





ใบงานที่...7...วิชา.....สังคมศึกษา.....ชั้น..... ประถมศึกษาปีที่ 1.....ภาคเรียนที่.....1.....
 หน่วยที่3..... เรื่อง..... โอวาท 3.....

คะแนน



มาตรฐาน/ตัวชี้วัด.. ส 1.1 ป.1/3 บอกความหมาย ความสำคัญ และเคารพพระรัตนตรัย รัตนตรัย

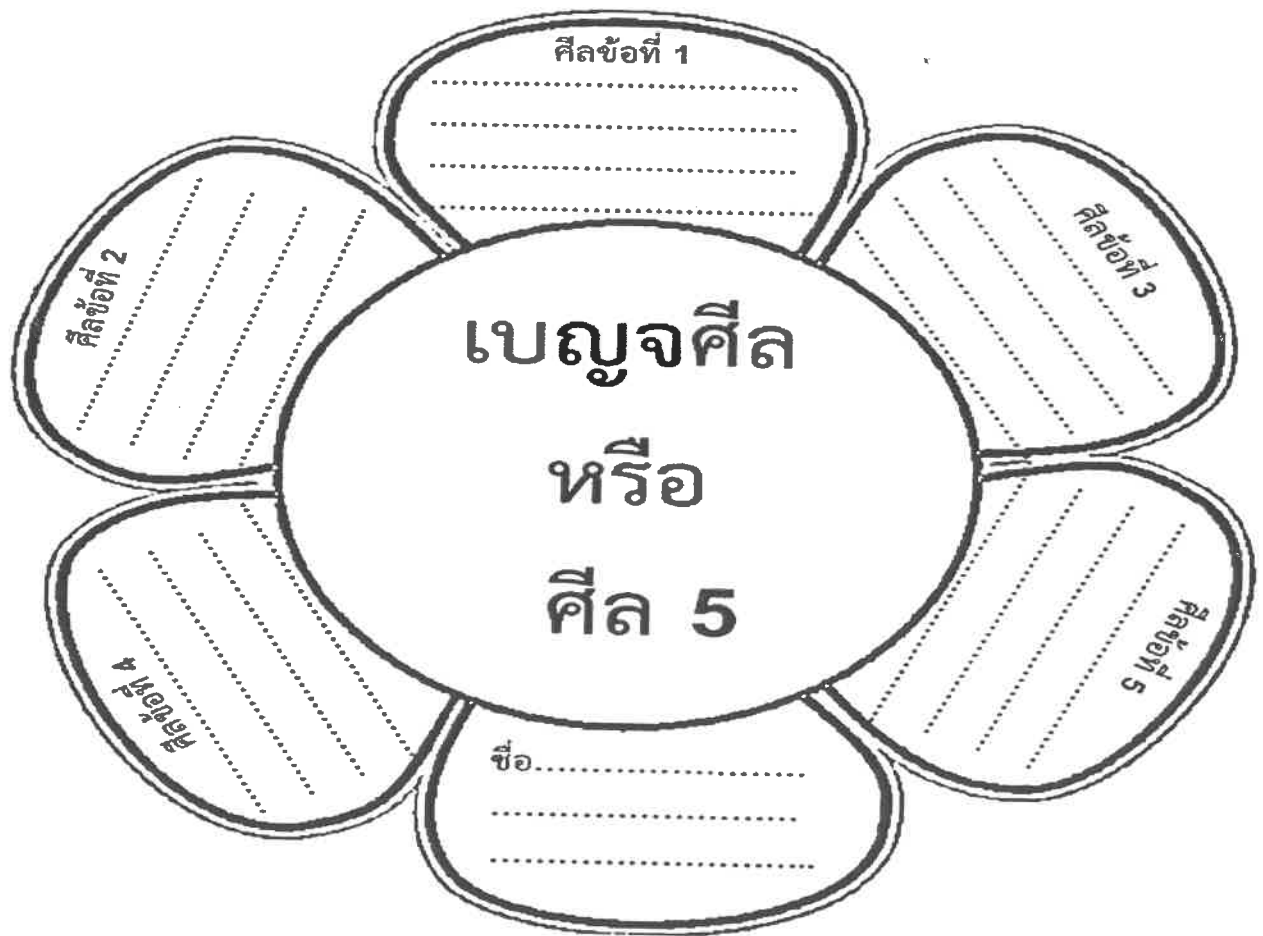
ปฏิบัติตามหลักธรรมโอวาท 3 ในพระพุทธศาสนา

ชื่อ - สกุล ชั้น เลขที่.....

ครูผู้สอน.....คุณครูปาณิสรา จริตศรี..... เบอร์โทร.....0948201892.....

ใบงาน ดอกไม้คุณธรรม “เบญจศีล หรือ ศีล 5”

คำชี้แจง ให้นักเรียนพิจารณาข้อความที่กำหนดให้ข้างล่าง จากนั้นนำข้อความที่สัมพันธ์กันเติมลงในดอกไม้ และตกแต่งระบายสีให้สวยงาม



- เว้นจากการเบียดเบียนชีวิต
- เว้นจากการเอาสิ่งของที่เจ้าของมิได้ให้
- เว้นจากการประพฤติไม่เหมาะสมทางเพศ
- เว้นจากการกล่าวเท็จ
- เว้นจากการบริโภคสุรายาเมาอันเป็นที่ตั้งแห่งความประมาท



ใบงานที่.....8.....วิชา.....สังคมศึกษา.....ชั้น..... ประถมศึกษาปีที่ 1.....ภาคเรียนที่.....1.....

คะแนน

หน่วยที่6..... เรื่อง..... วันสำคัญทางพระพุทธศาสนา.....

มาตรฐาน/ตัวชี้วัด.. ส 1.2 เข้าใจ ตระหนักและปฏิบัติตนเป็นศาสนิกชนที่ดี และธำรงรักษาพระพุทธศาสนา

หรือศาสนาที่ตนนับถือ

ชื่อ - สกุล..... ชั้น..... เลขที่.....

ครูผู้สอน.....คุณครูปาณิสรา จริตศรี..... เบอร์โทร.....0948201892.....

ใบงานวิชาพระพุทธศาสนา

เรื่องวันสำคัญทางพระพุทธศาสนา

คำชี้แจง : ให้นักเรียนนำอักษรภาษาอังกฤษหน้าวันสำคัญทางพระพุทธศาสนาเติมหน้าข้อความต่อไปนี้ให้สัมพันธ์กัน

A. วิสาขบูชา

B. มาฆบูชา

C. อาสาฬหบูชา

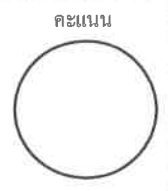
D. อัญมมิบูชา

- _____ 1. เป็นวันประสูติ ตรัสรู้ ปรีชาญาณ ของพระพุทธเจ้า
- _____ 2. เป็นวันที่มีพระสงฆ์ 1250 รูป มาประชุมกันโดยมิได้นัดหมาย
- _____ 3. เป็นวันที่มีพระสงฆ์องค์แรกในพระพุทธศาสนา
- _____ 4. เป็นวันที่มีการแสดงปฐมเทศนา
- _____ 5. เป็นวันที่มีการแสดงธรรมสำคัญคือ โอวาท 3
- _____ 6. เป็นวันที่มีพระรัตนตรัยครบทั้ง 3 ประการ
- _____ 7. เป็นวันคล้ายวันถวายพระเพลิงพุทธสรีระ
- _____ 8. วันขึ้น 15 ค่ำ เดือน 6
- _____ 9. วันขึ้น 15 ค่ำ เดือน 3
- _____ 10. วันขึ้น 15 ค่ำ เดือน 8
- _____ 11. วันแรม 8 ค่ำ เดือน 6
- _____ 12. เป็นวันที่มีการแสดงธรรม อัมมจักกัปปวัตตนสูตร





ใบงานที่ 1 วิชา สุขศึกษาและพลศึกษา ชั้น ป.1 ภาคเรียนที่ 1
หน่วยที่ 1 เรื่อง หน้าที่ของลิ้น
มาตรฐาน/ตัวชี้วัด พ1.1 ป1/1 หน้าที่ของอวัยวะการพูด



คะแนน

ชื่อ - สกุล ชั้น เลขที่.....
ครูผู้สอน นาย/คุณ คุณนงนุช เบอร์โทร 081-721-8036

อวัยวะในช่องปากต่างก็มีหน้าที่สำคัญได้แก่



ให้นักเรียนใช้เครื่องหมายถูกหรือผิดหน้าข้อต่อไปนี้

- 1) ปากมีหน้าที่มีหน้าที่ใช้พูดคุย
- 2) ถ้าไม่มีเหงือก ฟันก็ไม่สามารถเกาะอยู่ได้
- 3) ฟันมีหน้าที่กัดถ่วงขนม
- 4) ถ้าไม่มีลิ้น จะทำให้เรากัดอาหารไม่ได้
- 5) เราใช้ฟันเคี้ยวอาหารให้ละเอียดก่อนกลืน



ใบงานที่ ๕...วิชา... (คณิตศาสตร์) ...ภาคเรียนที่ ๑

คะแนน

หน่วยที่ ๕... เรื่อง... ธรรมชาติของมนุษย์

มาตรฐาน/ตัวชี้วัด... พ ๕.๑.๒/๑... สมาร์ทในสังคม

ชื่อ - สกุล ชั้น เลขที่.....

ครูผู้สอน... นาม (ณิศา) ... (ณัฏฐา) ... เบอร์โทร... ๐๘๑-๗๒๑-๘๐๓๖

เรื่อง ธรรมชาติของมนุษย์

คำชี้แจง ให้นักเรียนจับคู่ช่วงวัยต่อไปนี้ให้ถูกต้อง



วัยผู้ใหญ่เป็นวัยที่เจริญเติบโตเต็มที่และพร้อมต่อการมีครอบครัว



วัยทารกเป็นวันที่ยังไม่สามารถช่วยเหลือตัวเองได้



วัยเด็กเป็นวัยที่เริ่มมีพัฒนาการช่วยเหลือตัวเองได้มากขึ้น



วัยสูงอายุเป็นวัยที่ประสิทธิภาพการทำงานของอวัยวะต่างๆลดลง



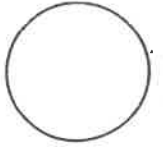
วัยรุ่นมีการเปลี่ยนแปลงด้านร่างกายแสดงออกถึงความเป็นเพศชายเพศหญิงมากขึ้น



ใบงานที่ 3.....วิชา.....ศิลปะ.....ชั้น..... ป 1 ภาคเรียนที่.....1.....

89/6

คะแนน




หน่วยที่ 2 เรื่อง ความรู้สึกของฉัน

มาตรฐาน/ตัวชี้วัด บอกความรู้สึกและวาดภาพธรรมชาติและสิ่งแวดล้อมได้

ชื่อ - สกุล ชั้น เลขที่.....

ครูผู้สอน. นางอรัญญา กระจ่างศิลป์ เบอร์โทร 087 - 0422097

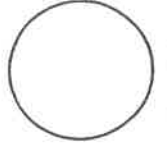
ให้นักเรียนวาดภาพธรรมชาติและสิ่งแวดล้อมต่างพร้อมระบายสีไม้ให้สวยงาม





ใบงานที่ 4 วิชา.....ศิลปะ.....ชั้น.....ป 1 ภาคเรียนที่.....1.....

คะแนน



หน่วยที่ 2 เรื่อง งานศิลปะในชีวิตประจำวัน

มาตรฐาน/ตัวชี้วัด ระบุงานทัศนศิลป์ในชีวิตประจำวัน


ชื่อ - สกุล ชั้น เลขที่.....

ครูผู้สอน. นางอรุณญา กระจ่างศิลป์ เบอร์โทร 087 - 0422097

ให้นักเรียนปั้นภาพ รูปสัตว์ รูปดอกไม้ รูปรถ โดยใช้ดินน้ำมันปั้นให้สวยงาม
(เลือกปั้นอย่างใดอย่างหนึ่ง)



ใบงานที่...3...วิชา.....การงานอาชีพ.....ชั้น..... ประถมศึกษาปีที่ 1...ภาคเรียนที่.....1.....
หน่วยที่2..... เรื่อง.....การแต่งกายด้วยตนเอง.....



มาตรฐาน/ตัวชี้วัด.. ง 1.1 ป.1/3 ทำงานเพื่อช่วยเหลือตนเองอย่างกระตือรือร้นและตรงเวลา

ชื่อ - สกุล ชั้น เลขที่.....

ครูผู้สอน.....คุณครูปาณิสรา จริตศรี..... เบอร์โทร.....0948201892.....

ให้นักเรียนบอกขั้นตอนการแต่งกายด้วยตนเอง โดยการสังเกตจากรูปภาพ แล้วเติมตัวเลขลงในช่องว่างว่าอยู่ในขั้นตอนที่
เท่าไร



ขั้นตอนที่

สวมเสื้อให้เรียบร้อย




ขั้นตอนที่

สวมกางเกงให้เรียบร้อย



ขั้นตอนที่

สวมใส่ชุดชั้นในให้เรียบร้อย



ขั้นตอนที่.....

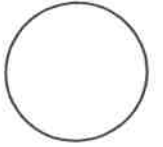
สำรวจความเรียบร้อยของตนเอง

ถ้าต้องออกไปข้างนอกให้สวมรองเท้าก่อน



ใบงานที่...4...วิชา.....การงานอาชีพ.....ชั้น..... ประถมศึกษาปีที่ 1.....ภาคเรียนที่.....1.....
 หน่วยที่.....3.....เรื่อง.....อาหารและโภชนาการ.....

คะแนน

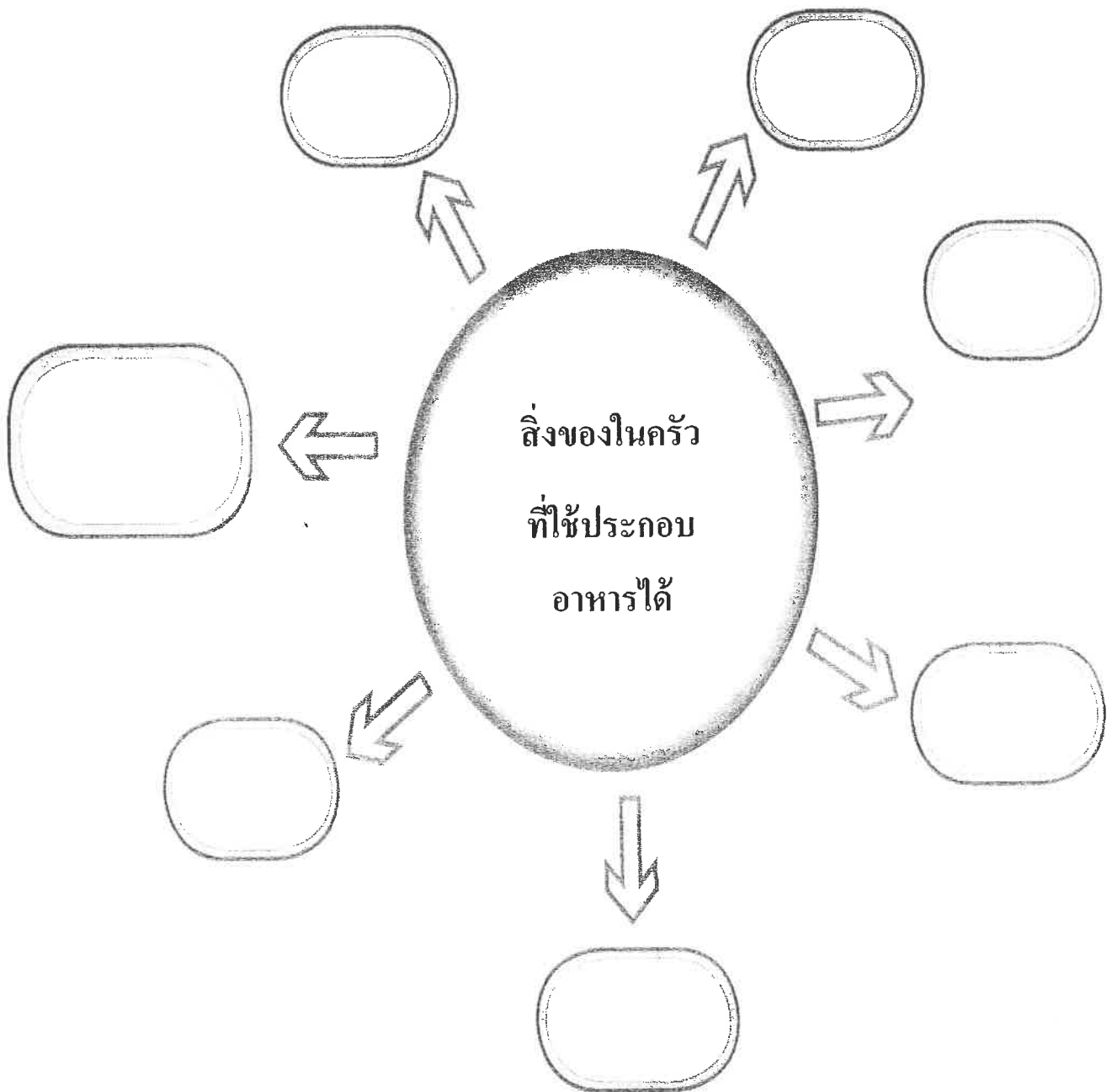


มาตรฐาน/ตัวชี้วัด.. ง 1.1 ป.1/2 ใช้วัสดุ อุปกรณ์ และเครื่องมืออย่าง ง่าย ๆ ในการทำงานอย่างปลอดภัย

ชื่อ - สกุล ชั้น เลขที่.....

ครูผู้สอน.....คุณครูปานิสรา จริตศรี..... เบอร์โทร.....0948201892.....


ให้นักเรียนสำรวจในห้องครัวที่บ้านของนักเรียนว่ามีสิ่งของอะไรบ้าง ที่ใช้ประกอบอาหารได้ จากนั้นให้นักเรียน
 เขียนลงในแผนว่ามีอุปกรณ์สิ่งใดบ้างและตกแต่งระบายสีให้สวยงาม





ใบงานที่...3...วิชา...ภาษาอังกฤษ.....ชั้น...ป.1.....ภาคเรียนที่.....1.....

คะแนน



หน่วยที่3..... เรื่อง.....colors and shapes.....

มาตรฐาน/ตัวชี้วัด.....ต4.1 ป1/2ใช้ภาษาต่างประเทศเพื่อรวบรวมคำศัพท์ที่เกี่ยวข้องใกล้ตัว.....

ชื่อ - สกุล ชั้น เลขที่.....

ครูผู้สอน...อรอนงค์ จิตรรัตน์..... เบอร์โทร...0622629264.....

คำชี้แจง : ให้นักเรียนระบายสีให้ตรงกับคำศัพท์ภาษาอังกฤษให้ถูกต้อง

Colours

Orange 

Green 

White 

Red 

Grey 

Pink 

Black 

Yellow 

Blue 


Brown 

Purple 



ใบงานที่.....4.. วิชา.....ภาษาอังกฤษ.....ชั้น.....ชั้น.....ป.1.....ภาคเรียนที่.....1.....

คะแนน



หน่วยที่4..... เรื่อง.....count.....







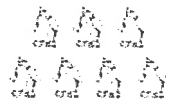



มาตรฐาน/ตัวชี้วัด.....ปฏิบัติตามคำสั่ง คำขอร้อง และคำแนะนำที่ฟังและอ่าน ด.1.1 ป.6/1

ชื่อ - สกุล ชั้นป.1..... เลขที่.....

ครูผู้สอน.....อรอนงค์ จิตรรัตน์..... เบอร์โทร.....0622629264.....

See, Say, Write, and Count!

Say the number. Trace the number word. Write the number word.

1	one	
2	two	
3	three	
4	four	
5	five	
6	six	
7	seven	
8	eight	
9	nine	
10	ten	



ใบงานที่ #2 วิชา English ชั้น P.1 ภาคเรียนที่ 1

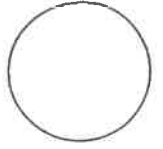
คะแนน

หน่วยที่ เรื่อง My Family

มาตรฐาน/ตัวชี้วัด Members of the Family

ชื่อ - สกุล ชั้น เลขที่

ครูผู้สอน Miss Elizabeth C. Mier เบอร์โทร 0946461006




Instructions: Rearrange the letters below and connect the word to the correct picture.

Example:

1. rethom
mother



2. ritess
.....




3. erfath
.....



4. pagrand
.....



5. magrand
.....




6. therbro
.....





ใบงานที่.#3..วิชา...English....ชั้น..P.1...ภาคเรียนที่.....1.....

คะแนน



หน่วยที่ เรื่อง.....Parts of the Body.....

มาตรฐาน/ตัวชี้วัด.....The students will learn the different parts of the body.....

ชื่อ - สกุล ชั้น เลขที่.....

ครูผู้สอน.....Miss Elizabeth C. Mier..... เบอร์โทร.....0946461006.....

Instructions: Label the different parts of the body. Write your answers inside the box provided.

