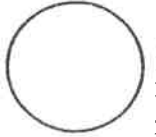




ใบงานที่ 9 วิชา ภาษาไทย ชั้นประถมศึกษาปีที่ 3 ภาคเรียนที่ 1
 หน่วยที่ 2 เรื่อง มาตรฐานตัวสะกด
 มาตรฐาน/ตัวชี้วัด ท1.1ป3/1 การอ่านออกเสียง คำข้อความเรื่องสั้นๆ และบทร้อยกรอง
 ง่ายๆ ได้ถูกต้อง คล่องแคล่ว

คะแนน

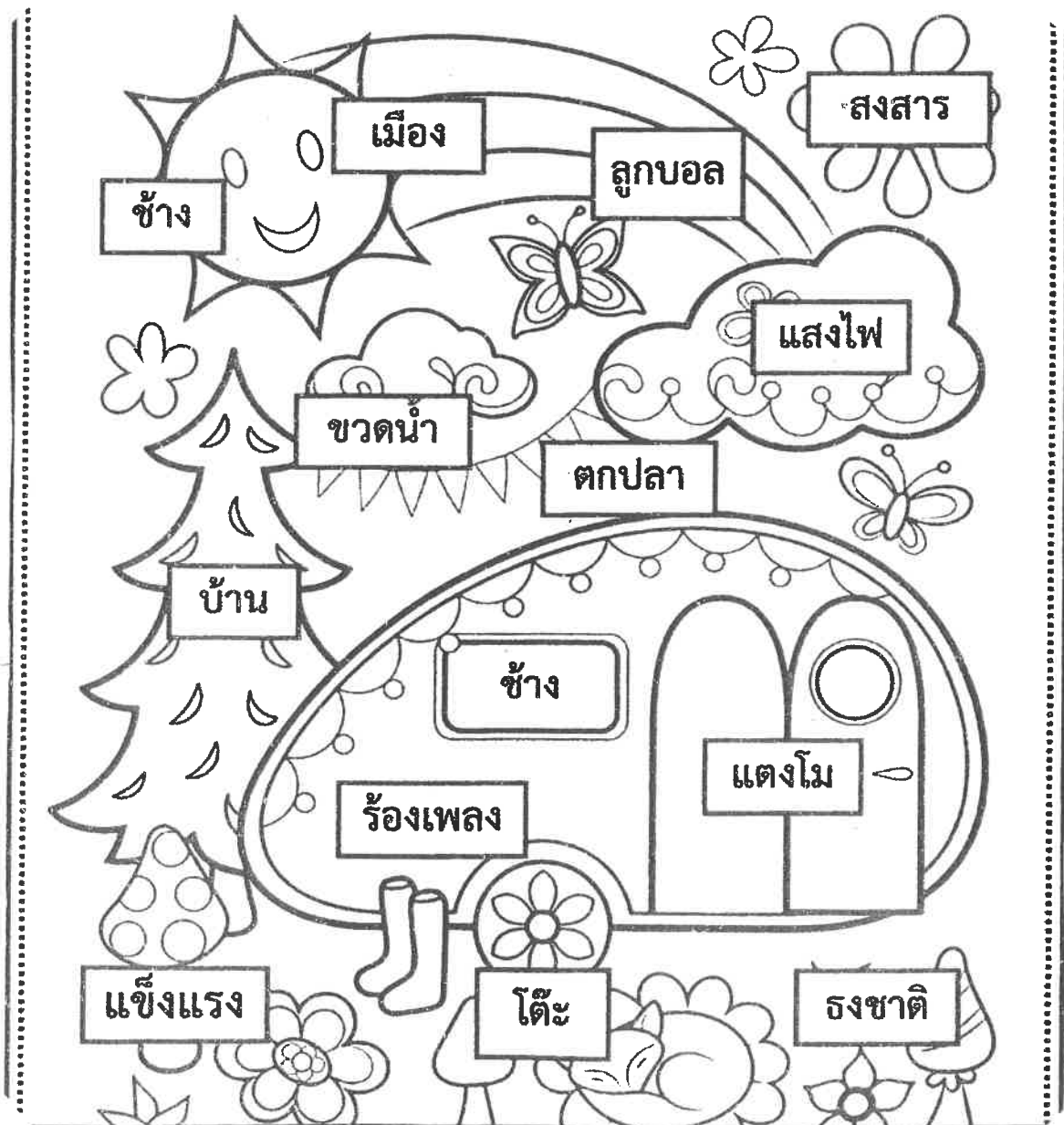


ชื่อ - สกุล ชั้น เลขที่.....

ครูผู้สอน นางจุจิต ธีระจันทร์ ป 3/1-ป3/3

เบอร์โทร 087- 0422097

คำชี้แจง ให้นักเรียนระบายสีคำที่อยู่ในแม่ กง แล้วฝึกอ่านกันนะคะ





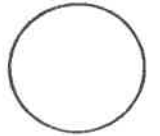
ใบงานที่ 10 วิชา ภาษาไทย ชั้นประถมศึกษาปีที่ 3 ภาคเรียนที่ 1

คะแนน

หน่วยที่ 2 เรื่อง มาตราตัวสะกด

มาตรฐาน/ตัวชี้วัด ท1.1ป3/1 การอ่านออกเสียง คำข้อความเรื่องสั้นๆ และบทร้อยกรอง

ง่ายๆได้ถูกต้อง คล่องแคล่ว

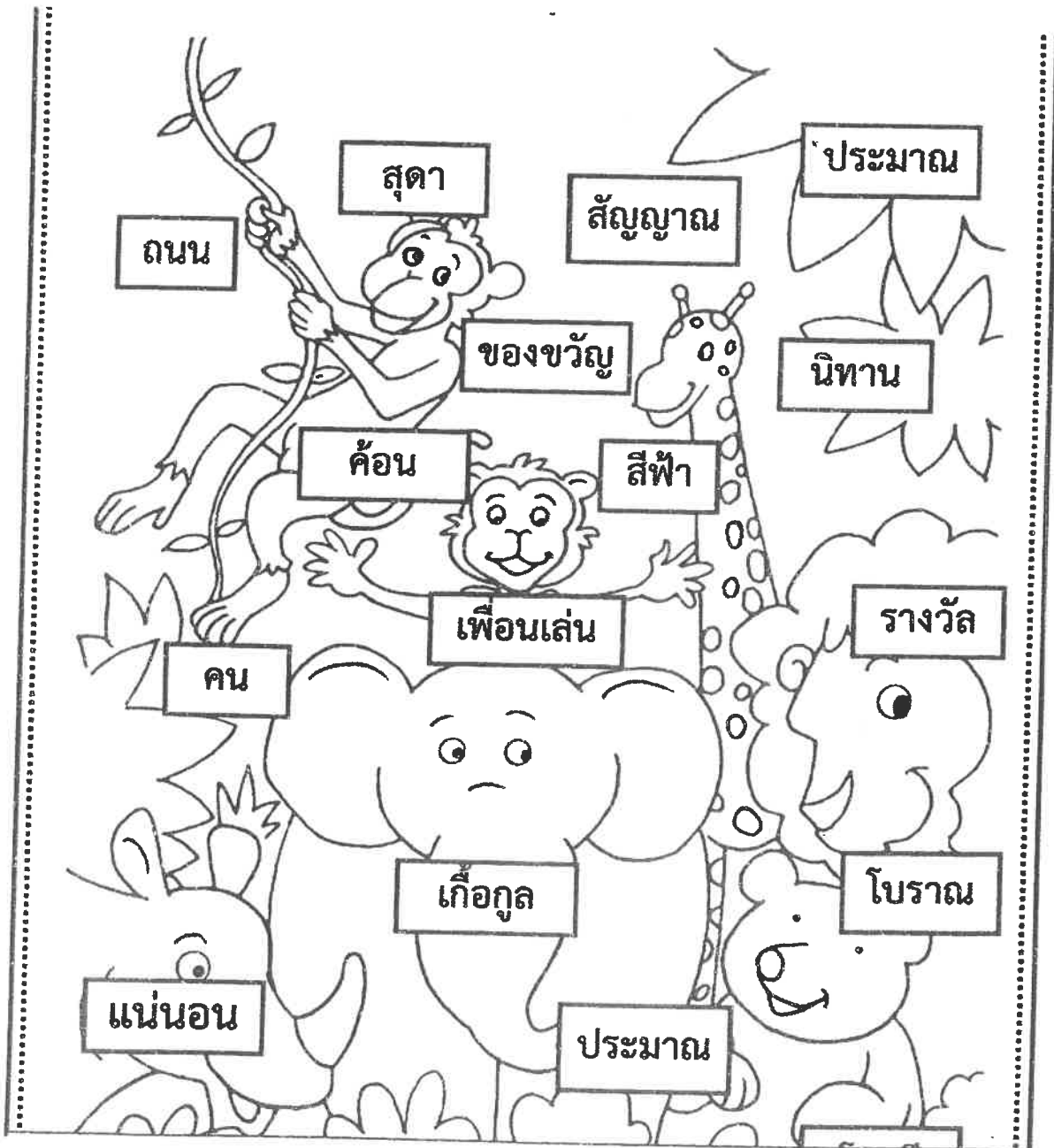


ชื่อ - สกุล ชั้น เลขที่.....

ครูผู้สอน นางชุจิตร ธีระจันทร์ป 3/1 -ป3/3

เบอร์โทร 087- 0422097

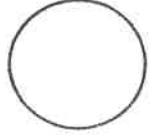
คำชี้แจง ให้นักเรียนระบายสีคำที่อยู่ในแม่ กน แล้วฝึกอ่านกันนะคะ





ใบงานที่ 11 วิชา ภาษาไทย ชั้นประถมศึกษาปีที่ 3 ภาคเรียนที่ 1
 หน่วยที่ 2 เรื่อง มาตราตัวสะกด
 มาตรฐานตัวชี้วัด ท1.1ป3/1 การอ่านออกเสียง คำข้อความเรื่องสั้นๆ และบทร้อยกรอง
 ง่ายๆ ได้ถูกต้อง คล่องแคล่ว

คะแนน

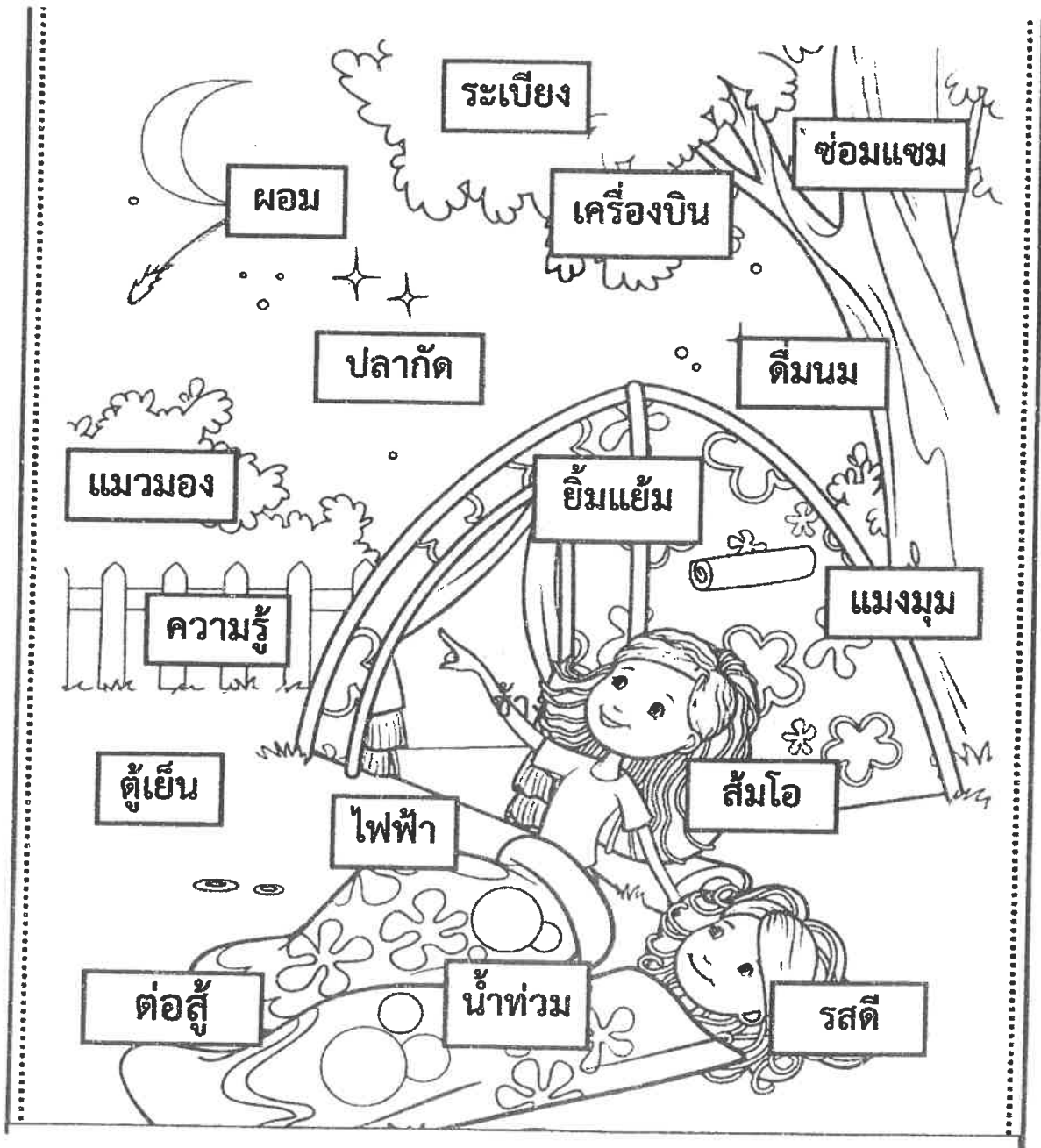


ชื่อ - สกุล ชั้น เลขที่

ครูผู้สอน นางชุติฉิ ริระจันทร์ ป 3/1 -ป3/3

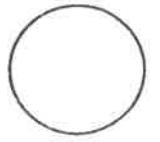
เบอร์โทร 087- 0422097

คำชี้แจง ให้นักเรียนระบายสีคำที่อยู่ในแม่ กม แล้วฝึกอ่านกันนะคะ





ใบงานที่ 12 วิชา ภาษาไทย ชั้นประถมศึกษาปีที่ 3 ภาคเรียนที่ 1
 หน่วยที่ 2 เรื่อง มาตราตัวสะกด
 มาตรฐานตัวชี้วัด ท1.1ป3/1 การอ่านออกเสียง คำข้อความเรื่องสั้นๆ และบทร้อยกรอง
 ง่ายๆได้ถูกต้อง คล่องแคล่ว

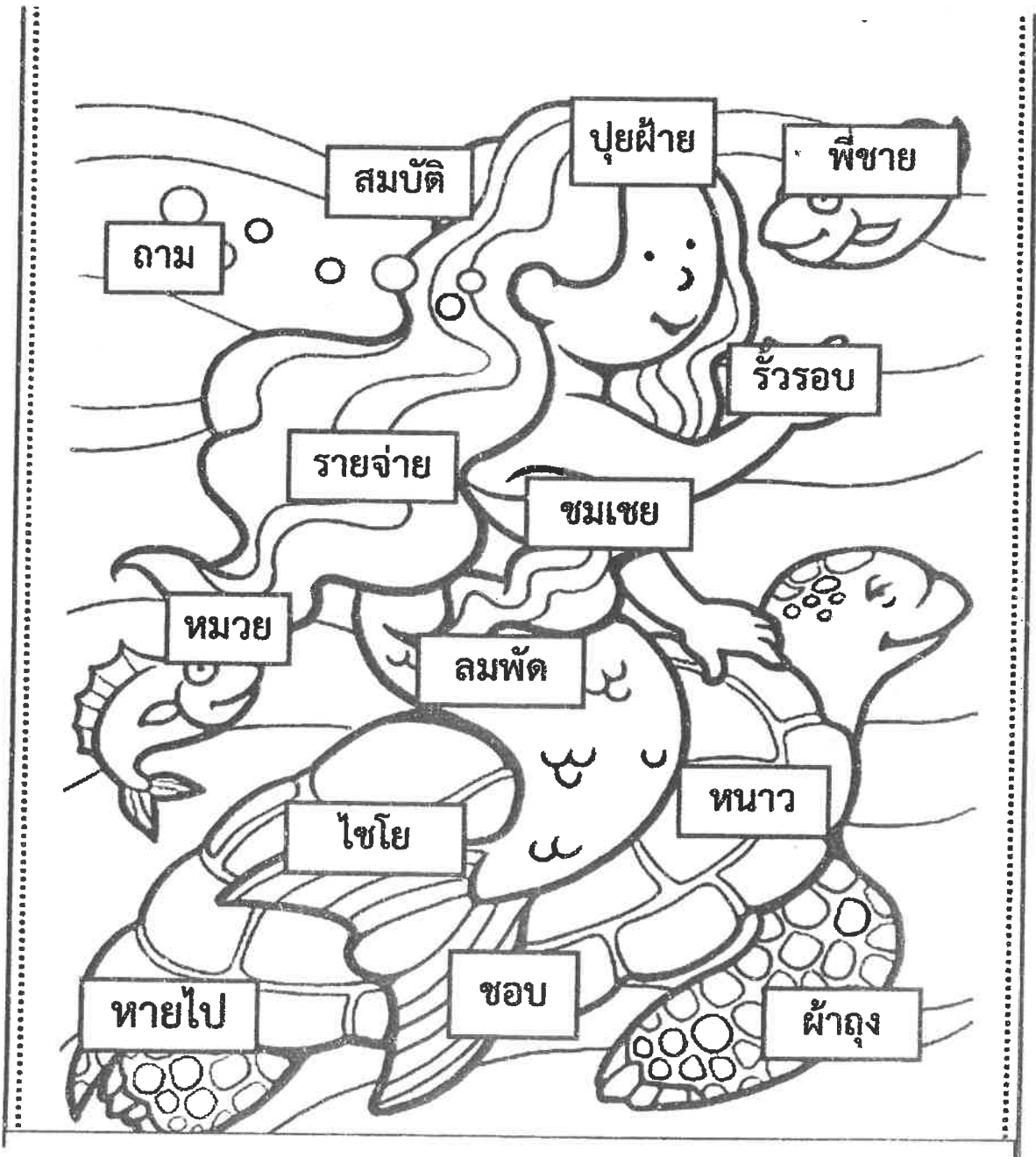


ชื่อ - สกุล ชั้น เลขที่.....

ครูผู้สอน นางชุติฉัตร ธีระจันทร์ ป 3/1 -ป3/3

เบอร์โทร 087- 0422097

คำชี้แจง ให้นักเรียนระบายสีคำที่อยู่ในแม่ เกย แล้วฝึกอ่านกันนะคะ



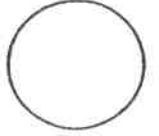


ใบงานที่ 13 วิชา ภาษาไทย ชั้นประถมศึกษาปีที่ 3 ภาคเรียนที่ 1

คะแนน

หน่วยที่ 2 เรื่อง มาตรฐานตัวสะกด

มาตรฐานตัวชี้วัด ท1.1ป3/1 การอ่านออกเสียง คำข้อความเรื่องสั้นๆ และบทร้อยกรอง
ง่ายๆ ได้ถูกต้อง คล่องแคล่ว

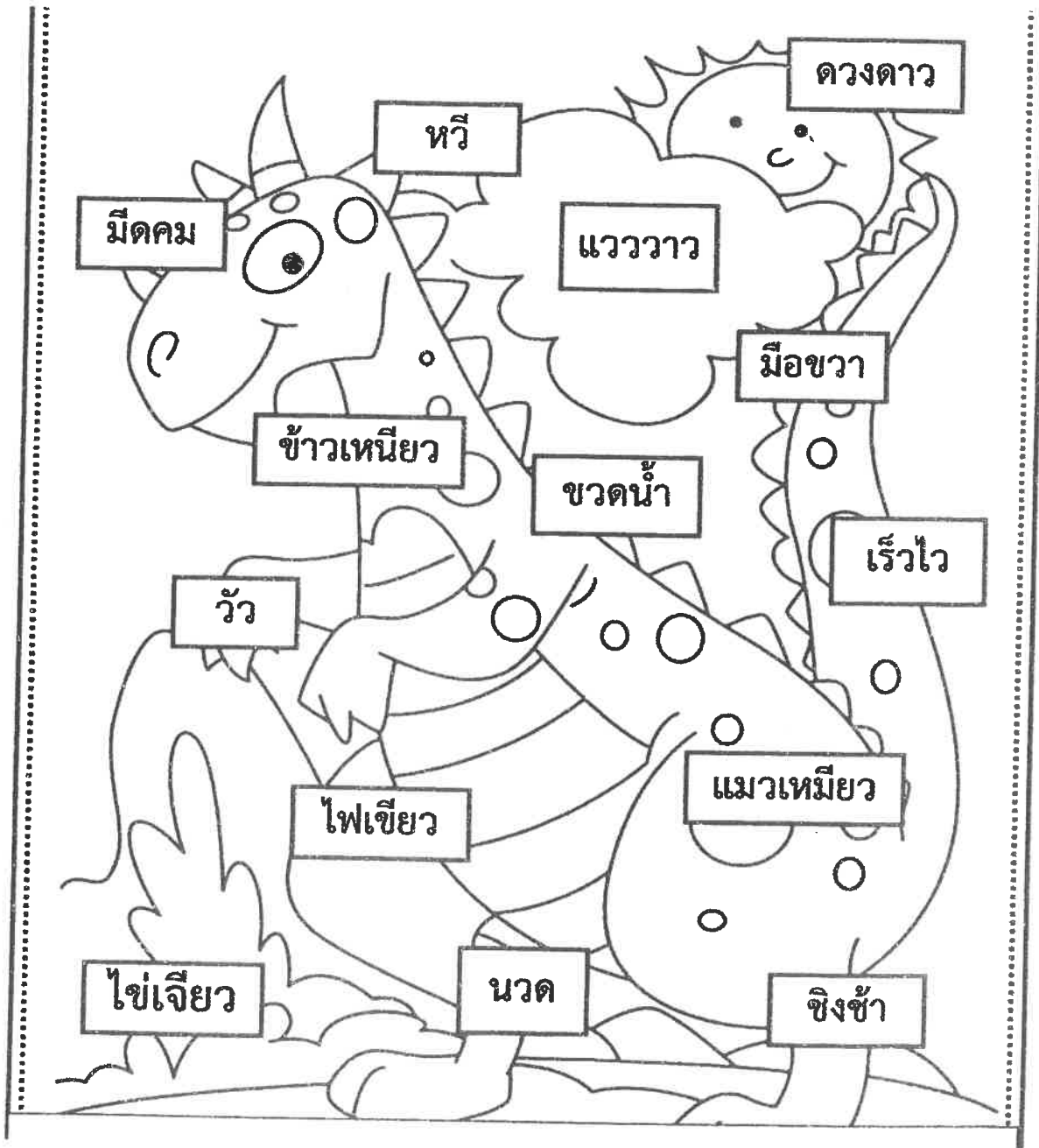


ชื่อ - สกุล ชั้น เลขที่

ครูผู้สอน นางชอุติ ธีระจันทร์ป 3/1 - ป3/3

เบอร์โทร 087- 0422097

คำชี้แจง ให้นักเรียนระบายสีคำที่อยู่ในแม่ เกอว แล้วฝึกอ่านกันนะคะ



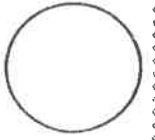


ใบงานที่ 14 วิชา ภาษาไทย ชั้นประถมศึกษาปีที่ 3 ภาคเรียนที่ 1

คะแนน

หน่วยที่ 2 เรื่อง มาตรฐานตัวสะกด

มาตรฐานตัวชี้วัด ท1.1ป3/1 การอ่านออกเสียง คำข้อความเรื่องสั้นๆ และบทร้อยกรอง
ง่ายๆ ได้ถูกต้อง คล่องแคล่ว

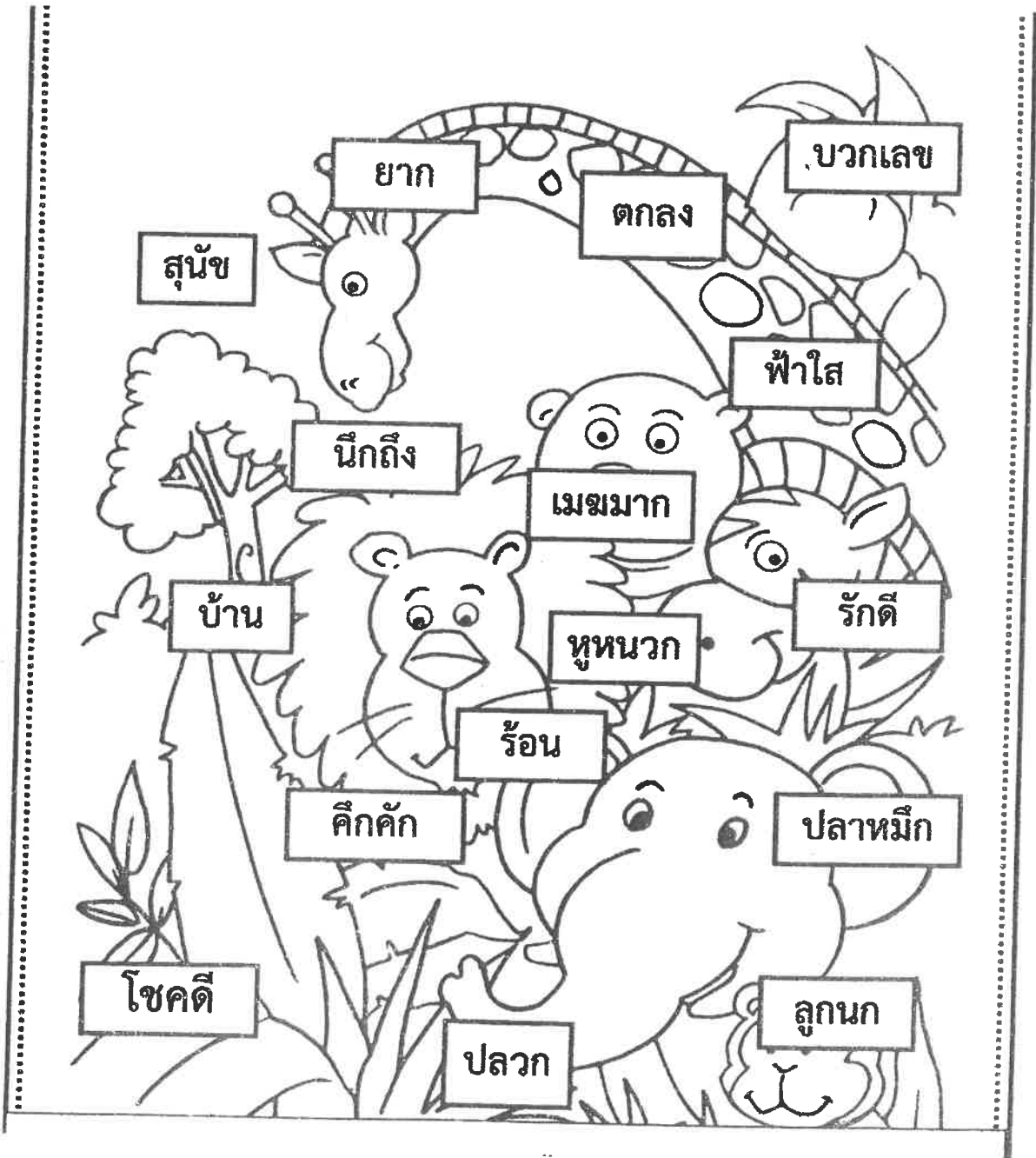


ชื่อ - สกุล ชั้น เลขที่

ครูผู้สอน นางชุติดา ธีระจันทร์ 3/1 -ป3/3

เบอร์โทร 087- 0422097

คำชี้แจง ให้นักเรียนระบายสีคำที่อยู่ในแม่ กก แล้วฝึกอ่านกันนะคะ



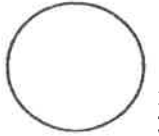


ใบงานที่ 15 วิชา ภาษาไทย ชั้นประถมศึกษาปีที่ 3 ภาคเรียนที่ 1

คะแนน

หน่วยที่ 2 เรื่อง มาตราตัวสะกด

มาตรฐานตัวชี้วัด ท1.1ป3/1 การอ่านออกเสียง คำข้อความเรื่องสั้นๆ และบทร้อยกรอง
ง่ายๆ ได้ถูกต้อง คล่องแคล่ว




ชื่อ - สกุล ชั้น เลขที่

ครูผู้สอน นางชุติฉิ ธีระจันทร์ป 3/3 -ป3/3

เบอร์โทร 087- 0422097

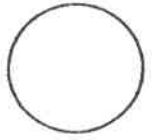
คำชี้แจง ให้นักเรียนระบายสีคำที่อยู่ในแม่ กด แล้วฝึกอ่านกันนะคะ





ใบงานที่ 16 วิชา ภาษาไทย ชั้นประถมศึกษาปีที่ 3 ภาคเรียนที่ 1
 หน่วยที่ 2 เรื่อง มาตราตัวสะกด
 มาตรฐาน/ตัวชี้วัด ท1.1ป3/1 การอ่านออกเสียง คำข้อความเรื่องสั้นๆ และบทร้อยกรอง
 ง่ายๆ ได้ถูกต้อง คล่องแคล่ว

คะแนน




ชื่อ - สกุล ชั้น เลขที่

ครูผู้สอน นางชอุติ ธีระจันทร์ป 3/1 -ป3/3

เบอร์โทร 087- 0422097

คำชี้แจง ให้นักเรียนระบายสีคำที่อยู่ในแม่ กบ แล้วฝึกอ่านกันนะคะ





ใบงานที่...5...วิชา.....คณิตศาสตร์.....ชั้น.....ป.3.....ภาคเรียนที่.....1.....

คะแนน



หน่วยที่2... เรื่อง.....การหาผลบวกโดยการตั้งบวกที่มีการทด.....

มาตรฐาน/ตัวชี้วัด.....ค1.1 ป.3/5หาค่าของตัวไม่ทราบค่าในประโยคสัญลักษณ์แสดงการบวกและ

ประโยคสัญลักษณ์แสดงการลบของจำนวนนับไม่เกิน 100000 และ 0

ชื่อ - สกุล ชั้น เลขที่.....

ครูผู้สอน.....ครูอรุณีติ เอกตระกูล.....ครูชอุติ ชีระจันทร์..... เบอร์โทร...ครูอรุณีติ.092-8403995 ครูชอุติ 087-0423097

1 หาผลบวก

$$\begin{array}{r} 1) \quad 7310 \\ + 1090 \\ \hline \hline \end{array}$$

ตอบ

$$\begin{array}{r} 2) \quad 3009 \\ + 6701 \\ \hline \hline \end{array}$$

ตอบ

$$\begin{array}{r} 3) \quad 8180 \\ + 4828 \\ \hline \hline \end{array}$$

ตอบ

$$\begin{array}{r} 4) \quad 6600 \\ + 3400 \\ \hline \hline \end{array}$$

ตอบ

$$\begin{array}{r} 5) \quad 71770 \\ + 18513 \\ \hline \hline \end{array}$$

ตอบ

$$\begin{array}{r} 6) \quad 48053 \\ + 11678 \\ \hline \hline \end{array}$$

ตอบ

ควรตรวจสอบความสมเหตุสมผลของคำตอบด้วย



2

แสดงวิธีหาผลบวก

1) $2,758 + 7,206 = \square$

วิธีทำ

.....

.....

.....

ตอบ

2) $9,537 + 4,054 = \square$

วิธีทำ

.....

.....

.....

ตอบ

3) $21,733 + 32,574 = \square$

วิธีทำ

.....

.....

.....

ตอบ

4) $24,635 + 38,051 = \square$

วิธีทำ

.....

.....

.....

ตอบ

5) $49,083 + 36,766 = \square$

วิธีทำ

.....

.....

.....

ตอบ

6) $51,927 + 28,402 = \square$

วิธีทำ

.....

.....

.....

ตอบ

ควรตรวจสอบความสมเหตุสมผลของคำตอบด้วย





ใบงานที่...6..วิชา.....คณิตศาสตร์.....ชั้น.....ป.3.....ภาคเรียนที่.....1.....

คะแนน

หน่วยที่ ...2.. เรื่อง.....การทบทวนโดยการตั้งบวกที่มีการทด

มาตรฐาน/ตัวชี้วัด.....ค1.1 ป.3/5หาค่าของตัวไม่ทราบค่าในประโยคสัญลักษณ์แสดงการบวกและ

ประโยคสัญลักษณ์แสดงการลบของจำนวนนับไม่เกิน 100000 และ0.

ชื่อ - สกุล ชั้น เลขที่.....

ครูผู้สอน.....ครูอรุณีติ เอกตระกูล.....ครูชูจิต ธีระจันทร์..... เบอร์โทร....ครูอรุณีติ.092-8403995 ครูชูจิต087-0423097..

1 ทบทวน

$$\begin{array}{r} 1) \quad 17177 \\ + \quad 8653 \\ \hline \hline \end{array}$$

ตอบ

$$\begin{array}{r} 2) \quad 48053 \\ + \quad 2678 \\ \hline \hline \end{array}$$

ตอบ

$$\begin{array}{r} 3) \quad 3548 \\ + \quad 39602 \\ \hline \hline \end{array}$$

ตอบ

$$\begin{array}{r} 4) \quad 9616 \\ + \quad 79485 \\ \hline \hline \end{array}$$

ตอบ

$$\begin{array}{r} 5) \quad 78940 \\ + \quad 15763 \\ \hline \hline \end{array}$$

ตอบ

$$\begin{array}{r} 6) \quad 46794 \\ + \quad 25626 \\ \hline \hline \end{array}$$

ตอบ

ควรตรวจสอบความสมเหตุสมผลของคำตอบด้วย



2 แสดงวิธีหาผลบวก

1) $6,743 + 2,379 = \square$

วิธีทำ

.....

.....

.....

ตอบ

2) $5,327 + 6,896 = \square$

วิธีทำ

.....

.....

.....

ตอบ

3) $45,745 + 39,680 = \square$

วิธีทำ

.....

.....

.....

ตอบ

4) $56,428 + 17,826 = \square$

วิธีทำ

.....

.....

.....

ตอบ

5) $68,134 + 31,866 = \square$

วิธีทำ

.....

.....

.....

ตอบ

6) $79,997 + 19,993 = \square$

วิธีทำ

.....

.....

.....

ตอบ

ควรตรวจสอบความสมเหตุสมผลของคำตอบด้วย





ใบงานที่...7...วิชา.....คณิตศาสตร์.....ชั้น.....ป.3.....ภาคเรียนที่.....1.....

หน่วยที่2... เรื่อง.....การหาผลบวกโดยการตั้งบวกที่มีการทด.....

มาตรฐาน/ตัวชี้วัด.....ค1.1 ป.3/5หาค่าของตัวไม่ทราบค่าในประโยคสัญลักษณ์แสดงการบวกและ

ประโยคสัญลักษณ์แสดงการลบของจำนวนนับไม่เกิน 100000 และ 0

ชื่อ - สกุล ชั้น เลขที่.....

ครูผู้สอน.....ครูอรุณจิตติ เอกตระกูล.....ครูชูจิต ชิระจันทร์..... เบอร์โทร..ครูอรุณจิตติ 092-8403995 ครูชูจิต 087-0423097.....



I หาผลบวก

1)
$$\begin{array}{r} 61952 \\ + 3747 \\ \hline \hline \end{array}$$

ตอบ

2)
$$\begin{array}{r} 14795 \\ + 2413 \\ \hline \hline \end{array}$$

ตอบ

3)
$$\begin{array}{r} 75265 \\ + 1738 \\ \hline \hline \end{array}$$

ตอบ

4)
$$\begin{array}{r} 9976 \\ + 86065 \\ \hline \hline \end{array}$$

ตอบ


5)
$$\begin{array}{r} 27841 \\ + 18966 \\ \hline \hline \end{array}$$

ตอบ

6)
$$\begin{array}{r} 41357 \\ + 50693 \\ \hline \hline \end{array}$$

ตอบ

ควรตรวจสอบความสมเหตุสมผลของคำตอบด้วย



2 แสดงวิธีหาผลบวก

1) $3,001 + 59,968 = \square$

วิธีทำ

.....

.....

.....

ตอบ

2) $7,928 + 68,363 = \square$

วิธีทำ

.....

.....

.....

ตอบ

3) $17,977 + 79,815 = \square$

วิธีทำ

.....

.....

.....

ตอบ

4) $45,654 + 21,396 = \square$

วิธีทำ

.....

.....

.....

ตอบ

5) $57,204 + 26,799 = \square$

วิธีทำ

.....

.....

.....

ตอบ

6) $90,191 + 9,809 = \square$

วิธีทำ

.....

.....

.....

ตอบ

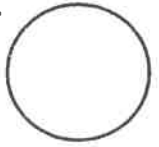
ควรตรวจสอบความสมเหตุสมผลของคำตอบด้วย





ใบงานที่...8...วิชา.....คณิตศาสตร์.....ชั้น.....ป.3.....ภาคเรียนที่.....1.....

คะแนน



หน่วยที่ .2.. เรื่อง.....การหาผลบวกโดยการตั้งบวกที่มีการทด.....

มาตรฐาน/ตัวชี้วัด.....ค.1.1 ป.3/5หาค่าของตัวไม่ทราบค่าในประโยคสัญลักษณ์แสดงการบวกและ

ประโยคสัญลักษณ์แสดงการลบของจำนวนนับไม่เกิน 100000 และ0

ชื่อ - สกุล ชั้น เลขที่.....

ครูผู้สอน.....ครูอรุณีติ เอกตระกูล.....ครูชูจิต ชีระจันทร์..... เบอร์โทร.....ครูจัน092-8403995 ครูชูจิต087-0423097.

1 หาผลลบ

$$\begin{array}{r} 1) \quad 6748 \\ - 2925 \\ \hline \hline \end{array}$$

ตอบ

$$\begin{array}{r} 2) \quad 5196 \\ - 1237 \\ \hline \hline \end{array}$$

ตอบ

$$\begin{array}{r} 3) \quad 51022 \\ - 23012 \\ \hline \hline \end{array}$$

ตอบ

$$\begin{array}{r} 4) \quad 68783 \\ - 59674 \\ \hline \hline \end{array}$$

ตอบ

$$\begin{array}{r} 5) \quad 25344 \\ - 5291 \\ \hline \hline \end{array}$$

ตอบ

$$\begin{array}{r} 6) \quad 11783 \\ - 2591 \\ \hline \hline \end{array}$$

ตอบ

ควรตรวจคำตอบด้วย



2

แสดงวิธีหาผลลบ

1) $6,615 - 523 = \square$

วิธีทำ

.....

.....

ตอบ

2) $44,635 - 1,352 = \square$

วิธีทำ

.....

.....

ตอบ

3) $15,362 - 11,534 = \square$

วิธีทำ

.....

.....

ตอบ

4) $28,482 - 21,564 = \square$

วิธีทำ

.....

.....

ตอบ

5) $4,935 - 1,761 = \square$

วิธีทำ

.....

.....

ตอบ

6) $43,462 - 11,545 = \square$

วิธีทำ

.....

.....

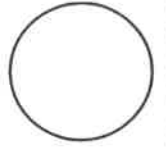
ตอบ



ใบงานที่.....4.วิชา.....วิทยาศาสตร์.....ชั้น.....ป.3.....ภาคเรียนที่.....1.....

คะแนน

หน่วยที่2..... เรื่อง.....ชีวิตของมนุษย์และสัตว์.....



มาตรฐาน/ตัวชี้วัด..ว.1.1.ป.3/1บรรยายสิ่งที่จำเป็นต่อการดำรงชีวิตและการเจริญเติบโตของมนุษย์ และสัตว์โดยใช้ข้อมูลที่รวบรวมได้..

ชื่อ - สกุล ชั้น เลขที่.....

ครูผู้สอน.....ครูอรุณฉวี เอกตระกูล..... เบอร์โทร.....092-8403995....

บทที่ 1 ปัจจัยในการดำรงชีวิตของมนุษย์และสัตว์

กิจกรรมฝึกทักษะที่ **1** ปัจจัยที่จำเป็นต่อการดำรงชีวิตของมนุษย์

สิ่งที่ได้เรียนรู้ : เรียนรู้เกี่ยวกับสิ่งที่จำเป็นต่อการดำรงชีวิตและการเจริญเติบโตของมนุษย์

ดูภาพ แล้วตอบคำถาม



อาหาร



อุปกรณ์เทคโนโลยีสารสนเทศ



ของเล่น



อากาศ



ยานพาหนะ



น้ำ

1. ภาพใดเป็นปัจจัยที่จำเป็นต่อการดำรงชีวิตและการเจริญเติบโตของมนุษย์
2. นอกจากปัจจัยในข้อ 1. ยังมีปัจจัยใดอีกบ้างที่จำเป็นต่อการดำรงชีวิตและการเจริญเติบโตของมนุษย์
3. หากนักเรียนได้รับปัจจัยในภาพที่ 1 มากเกินไป จะส่งผลอย่างไรต่อร่างกาย
4. ภาพที่ 2 มีความสำคัญในชีวิตประจำวันของนักเรียนหรือไม่ อย่างไร



ใบงานที่.....5.วิชา.....วิทยาศาสตร์.....ชั้น.....ป.3.....ภาคเรียนที่.....1.....

คะแนน

หน่วยที่ 2.. เรื่อง.....ชีวิตของมนุษย์และสัตว์...

มาตรฐานตัวชี้วัด..ว.1.2 ป.3/3. สร้างแบบจำลองที่บรรยายวัฏจักรชีวิตของสัตว์และเปรียบเทียบ

วัฏจักรชีวิตของสัตว์บางชนิด

ชื่อ - สกุล ชั้น เลขที่.....


ครูผู้สอน.....ครูอรุณจิตติ เอกตระกูล..... เบอร์โทร.....092-8403995.....

ชุดที่ 1 11 คะแนน

ตัวชี้วัด ว 1.2 ป.3/3
ได้คะแนน คะแนนเต็ม
6

1) ตอบคำถามต่อไปนี้

1) เติมระยะวัฏจักรชีวิตของผีเสื้อให้ถูกต้อง



2) อธิบายรายละเอียดของวัฏจักรชีวิตของผีเสื้อทั้ง 4 ระยะ

ระยะที่ 1

ระยะที่ 2

ระยะที่ 3

ระยะที่ 4



ใบงานที่ 6 วิชา.....วิทยาศาสตร์.....ชั้น.....ป.3.....ภาคเรียนที่.....1.....

คะแนน

หน่วยที่2... เรื่อง.....ชีวิตของมนุษย์และสัตว์.....

มาตรฐานตัวชี้วัด..ว.1.2 ป3/1 สร้างแบบจำลองที่บรรยายวัฏจักรชีวิตของสัตว์

และเปรียบเทียบวัฏจักรชีวิตของสัตว์บางชนิด....

ชื่อ - สกุล ชั้น เลขที่.....

ครูผู้สอน.....ครูอรุณีติ เอกตระกูล..... เบอร์โทร.....092-8403995.....

วง ล้อมรอบตัวอักษรหน้าคำตอบที่ถูกต้อง

- สิ่งใดเป็นปัจจัยที่จำเป็นต่อการดำรงชีวิตของมนุษย์
ก. อาหาร น้ำ อากาศ
ข. อาหาร น้ำ แสงแดด
ค. อาหาร น้ำ ที่อยู่อาศัย
ง. อาหาร น้ำ เครื่องนุ่งห่ม
- การปฏิบัติตามข้อใดช่วยให้ร่างกายทำงานได้ตามปกติ
ก. รับประทานอาหารเสริมทุกมื้อ
ข. รับประทานอาหารที่ให้พลังงานสูง
ค. ดื่มน้ำอัดลมเพื่อช่วยให้รู้สึกสดชื่น
ง. ดื่มน้ำสะอาดให้เพียงพอในแต่ละวัน
- การปฏิบัติต่อสัตว์เลี้ยงในข้อใดไม่ถูกต้อง
ก. พาไปฉีดวัคซีนและตรวจสุขภาพเป็นประจำ
ข. ทำความสะอาดที่อยู่อาศัยของสัตว์สม่ำเสมอ
ค. ให้อาหารที่เหมาะสมต่อความต้องการของสายพันธุ์
ง. กักบริเวณสัตว์ในพื้นที่ที่จำกัดตลอดเวลาเพื่อความปลอดภัย
- พลอยเลี้ยงปลาหางนกยูง 3 ตัว ในขวดแก้วที่มีอาหาร จากนั้นพลอยจึงปิดฝาขวด เพื่อป้องกันปลากระโดดออกจากขวด เมื่อเวลาผ่านไป ปลาหางนกยูงตายทั้งหมด ข้อใดเป็นสาเหตุที่ทำให้ปลาหางนกยูงตาย
ก. แก๊สออกซิเจนในน้ำลดลง
ข. ปริมาณน้ำไม่สัมพันธ์กับจำนวนปลา
ค. ปลาหางนกยูงต่อสู้กันเพื่อแย่งชิงอาหาร
ง. อาหารที่ให้ปลาหางนกยูงทำให้น้ำเน่าเสีย

ตัวชี้วัด ว.1.2-ป3/1 (ตัว.1.2)	คะแนนเต็ม
ได้คะแนน	คะแนนจริง
	1

ตัวชี้วัด ว.1.2-ป3/2 (ตัว.1.2)	คะแนนเต็ม
ได้คะแนน	คะแนนจริง
	3

5. สัตว์ในข้อใดมีวัฏจักรชีวิตเหมือนไก่ที่สุด

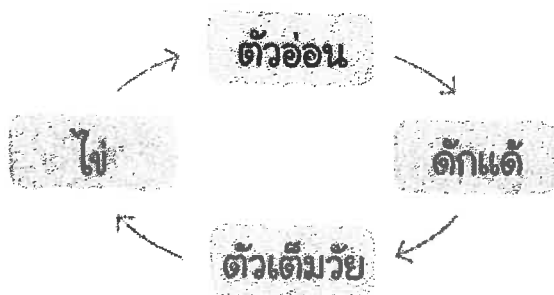
ก. มด

ข. จระเข้

ค. สุนัข

ง. ผีเสื้อ

6. แผนภาพต่อไปนี้เป็นวัฏจักรชีวิตของสิ่งมีชีวิตใด



ก. ผึ้ง

ข. ตั๊กแตน

ค. แมงมุม

ง. แมลงสาบ

7. ระยะดักแด้ของผีเสื้อเปรียบได้กับระยะใดของยุง

ก. ไข่

ข. ตัวอ่อน

ค. ตัวโม่ง

ง. ตัวเต็มวัย

8. วัฏจักรชีวิตของสัตว์ชนิดใดที่ระยะตัวอ่อนมีรูปร่างไม่เหมือนพ่อแม่

ก. นก

ข. กบ

ค. แมลงหริ

ง. ปลาหางนกยูง

9. ใครมีพฤติกรรมทำลายวัฏจักรชีวิตของสัตว์มากที่สุด

ก. มุขศึกษาวัฏจักรชีวิตของผีเสื้อ

ข. ม่อนเลี้ยงลูกนกที่หล่นจากต้นไม้จนโต

ค. แม็กนำตัวโม่งในโถงน้ำมาให้ปลากัดกิน

ง. มินแยกลูกไก่ออกจากแม่ไก่ที่กำลังทำร้ายลูกไก่

10. พฤติกรรมในข้อใดส่งผลกระทบต่อวัฏจักรชีวิตของสัตว์น้ำมากที่สุด

ก. การโดยสารทางเรือในแม่น้ำ

ข. การจับสัตว์น้ำมาขายสายพันธุ์

ค. การจับปลาในฤดูวางไข่เพื่อประกอบอาหาร

ง. การปล่อยน้ำเสียหลังบำบัดลงสู่แหล่งน้ำสาธารณะ

วิชา 1.2.3.4 (ข้อ 1-4)	
ได้คะแนน	คะแนนเต็ม
	4

วิชา 1.2.3.4 (ข้อ 9-10)	
ได้คะแนน	คะแนนเต็ม
	2



ใบงานที่ 3 วิชา.....คอมพิวเตอร์.....ชั้นประถมศึกษาปีที่ 3 ภาคเรียนที่ 1

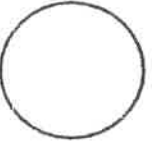
คะแนน

หน่วยที่1..... เรื่อง.....ข้อมูล.....

มาตรฐาน/ตัวชี้วัด.....ง 3.1 ป.3/1 ค้นหาข้อมูลอย่างมีขั้นตอน และนำเสนอข้อมูลในลักษณะต่าง ๆ...

ชื่อ - สกุล ชั้น เลขที่.....

ครูผู้สอน.....วันสมภพ บุตรสละ..... เบอร์โทร.....084-0040898.....



คำชี้แจง ให้นักเรียนตอบคำถามต่อไปนี้

1. ข้อมูล คืออะไร

.....
.....
.....

2. การค้นหาข้อมูล คืออะไร

.....
.....
.....

3. แหล่งข้อมูล คืออะไร

.....
.....
.....

4. บอกประโยชน์ของการค้นหาข้อมูลมา 5 ข้อ

.....
.....
.....

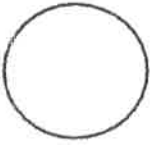
5. การกำหนดหัวข้อ คืออะไร

.....
.....
.....



ใบงานที่ 4 วิชา.....คอมพิวเตอร์.....ชั้นประถมศึกษาปีที่ 3 ภาคเรียนที่ 1

คะแนน



หน่วยที่1..... เรื่อง.....ข้อมูล.....

มาตรฐาน/ตัวชี้วัด 1.1 ป.3/2 ใช้วัสดุ อุปกรณ์ และเครื่องมือ ตรงกับลักษณะงาน

ทำงานอย่างเป็นขั้นตอนตามกระบวนการทำงานด้วยความสะอาด รอบคอบ และอนุรักษ์สิ่งแวดล้อม

ชื่อ - สกุล ชั้น เลขที่.....

ครูผู้สอน.....วันสมภพ บุตรสละ..... เบอร์โทร.....084-0040898.....

คำชี้แจง ให้นักเรียนตอบคำถามต่อไปนี้

ตัวอักษร	ตัวเลข	รูปภาพ	คลิปเสียง	วิดีโอ	ห้องธุรการ
ดินสอ-สมุดจด	กล้องดิจิทัล		โทรศัพท์	กระทรวงสาธารณสุข	

1. การอ่านสมุดบันทึก เป็นการอ่านข้อมูลประเภทใด

.....

2. นักเรียนจดบันทึกรายละเอียดของลูกสุนัข ตามที่นักเรียนดูมาจากบ้านเพื่อนเป็นข้อมูลประเภทใด

.....

3. อุปกรณ์ที่ใช้บันทึกข้อมูลที่นักเรียนรู้จัก ได้แก่อะไรบ้าง

.....

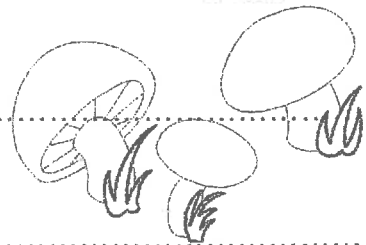
4. กล้องถ่ายรูปเป็นอุปกรณ์ในการจัดเก็บข้อมูลหรือไม่ ประเภทใด

.....

5. คนในสมัยโบราณบันทึกข้อมูลไว้ที่ใดบ้าง

.....

6. การสืบค้นข้อมูลได้แก่วิธีการใดบ้าง



.....

7. แหล่งข้อมูลเกี่ยวกับจำนวนนักเรียนควรจะอยู่ในสถานที่ใดภายในโรงเรียน

.....

8. ข้อมูลเกี่ยวกับโควิด - 19 ควรเก็บไว้ที่หน่วยงานใด

.....

9. การเขียนบันทึกประจำวันเป็นข้อมูลหรือไม่ ถ้าเป็นควรเป็นข้อมูลประเภทใด

.....

10. ถ้านักเรียนจะไปสืบค้นข้อมูลที่ห้องสมุด อุปกรณ์ใดบ้างที่ควรนำไปด้วย

.....

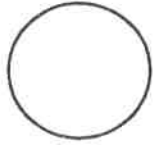


ใบงานที่ 4 วิชา สังคมศึกษา ชั้นประถมศึกษาปีที่ 3 ภาคเรียนที่ 1

คะแนน

หน่วยที่ 2 เรื่อง หลักธรรมนำความสุข

มาตรฐาน/ตัวชี้วัด ม.ร.ส 1.1 ป.3/4 ส 1.1 ป.3/5



ชื่อ - สกุล ชั้น เลขที่.....

ครูผู้สอน

คุณครูวารี กิจอินทรีย์

เบอร์โทร 083-2701758

ตอนที่ 1 ระบายสีกับหลักธรรมที่นักเรียนเคยปฏิบัติ

ความซื่อสัตย์
สุจริต

การรู้จักการให้
(ทาน)

การวางตนเหมาะสมไม่ถือตน
(สมานัตตตา)

พูดจาอ่อนหวาน
(ปิยวาจา)

การข่มใจ

ความกตัญญู
กตเวที

ความอดทน

บำเพ็ญตนให้เป็นประโยชน์แก่ผู้อื่น
(อุตถจริยา)



ตอนที่ 2 เขียนบอกหลักธรรมที่ตนเองปฏิบัติเป็นประจำ

หลักธรรมที่ฉันปฏิบัติเป็นประจำ คือ

ฉันปฏิบัติ ดังนี้

.....
.....
.....

เมื่อฉันปฏิบัติตามหลักธรรมนี้แล้ว ฉันรู้สึก

.....
.....
.....





ใบงานที่ 5 วิชา สังคมศึกษา ชั้นประถมศึกษาปีที่ 3 ภาคเรียนที่ 1

คะแนน

หน่วยที่ 2 เรื่อง พระไตรปิฎก

มาตรฐาน/ตัวชี้วัด มฐ. ส1.1ป.3/4 บอกรวมความหมาย ความสำคัญของพระไตรปิฎกหรือคัมภีร์ของศาสนา

ชื่อ - สกุล ชั้น เลขที่.....

ครูผู้สอน คุณครูวารีย์ กิจอินทรีย์ เบอร์โทร 083-2701758

คัมภีร์ของพระพุทธศาสนา

คัมภีร์ของพระพุทธศาสนา คือ พระไตรปิฎก แปลว่า ตะกร้า 3 ใบ หมายถึง คำสอน 3 หมวด ได้แก่ พระอภิธรรมปิฎก พระสุตตันตปิฎก และ พระวินัยปิฎก

พระไตรปิฎกเป็นคัมภีร์ที่มีความสำคัญต่อพุทธศาสนิกชนทุกคน เพราะเป็นแหล่งอ้างอิงหลักธรรมคำสอนของพระพุทธเจ้า (หนังสือเรียนหน้า 10)

๑ พระอภิธรรมปิฎก

เป็นหมวดที่ว่าด้วย พระอภิธรรม คือ

๒ พระสุตตันตปิฎก

เป็นหมวดเกี่ยวกับพระธรรมเทศนา คำบรรยายต่างๆ

๓ พระวินัยปิฎก

เป็นหมวดเกี่ยวกับพระวินัย คือ คำสอนที่พระพุทธเจ้า.....


พระรัตนตรัย

หมายถึง แก้วอันประเสริฐ 3 ประการ ได้แก่ พระพุทธ พระธรรม และพระสงฆ์ (หนังสือเรียน หน้า 11-12)

พระพุทธ หมายถึง

พระธรรม หมายถึง

พระสงฆ์ หมายถึง



พระธรรม



พระพุทธ



พระสงฆ์



ใบงานที่ 6 วิชา สังคมศึกษา ชั้นประถมศึกษาปีที่ 3 ภาคเรียนที่ 1

คะแนน

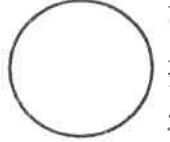
หน่วยที่ 2 เรื่อง เครื่องยึดเหนี่ยวจิตใจ

มาตรฐาน/ตัวชี้วัด มฐ. ส 1.1 ป.3/4 ส 1.1 ป.3/5

ชื่อ - สกุล ชั้น เลขที่.....

ครูผู้สอน คุณครูวาริ กิจอินทรีย์

เบอร์โทร 083-2701758



คำชี้แจง ให้นักเรียน x เลือกคำตอบที่ถูกต้องเพียงคำตอบเดียว

1. ข้อใดแสดงความสัมพันธ์ระหว่างเบญจศีลและเบญจธรรมได้ถูกต้อง

ก. ไม่ลักทรัพย์-พูดจาไพเราะ

ข. ไม่ดื่มสุรา-รักคู่ครองของตน

ค. ไม่พูดปด-ประกอบอาชีพสุจริต

ง. ไม่ฆ่าสัตว์-มีความเมตตา

2. ธรรมในข้อใดที่ **ไม่ได้** อยู่ในหลักธรรมสังคหวัตถุ 4

ก. ทาน

ข. ปิยวาจา

ค. อุตตถถะ

ง. สมานัตตตา

3. ใครปฏิบัติตน **ไม่ถูกต้อง** ตามหลักโอวาท 3

ก. สน ช่วยเพื่อนทำงานกลุ่ม

ข. ดา เก็บกระเป๋าเงินคืนเจ้าของ

ค. เกิด ทำการบ้านให้เพื่อนสนิท

ง. แพรว ไม่โกรธเพื่อนที่พูดโต้แย้งเธอ

4. ข้อใด **ไม่ใช่** โอวาทของพระพุทธเจ้า

ก. ทำแต่ความดี

ข. ไม่ทำความชั่ว

ค. ชีวีมีสุข

ง. ทำจิตใจให้บริสุทธิ์

5. ข้อใด **ไม่ใช่** หลักธรรมในพรพาวาสธรรม 4

ก. สัจจะ

ข. อุตถจริยา

ค. ขันติ

ง. จาคะ

6. การกระทำของใคร **ไม่ใช่** เป็นการแสดงความกตัญญูต่อสิ่งแวดล้อมที่เหมาะสม

ก. แหม่ม ปลุกป่าชายเลน

ข. จีบ จับปลาในฤดูวางไข่

ค. ชาย คัดแยกประเภทขยะก่อนทิ้ง

ง. พล รักษาความสะอาดของสวนสาธารณะ

7. ใคร **ปฏิบัติ** ตามหลักมงคล 38 ได้อย่างเหมาะสม

ก. พงษ์ นำขยะไปทิ้งลงในท่อระบายน้ำ

ข. จิต จับปลาในคลองมาแจกเพื่อน

ค. ศรี บริจาคเงินเพื่อช่วยเหลือผู้ที่ถูกน้ำท่วม

ง. สาว เด็ดดอกไม้ของเพื่อนบ้านมาบูชาพระ

8. ข้อใดหมายถึง ความระลึกได้ในสิ่งที่ทำ ในคำที่ได้พูด

ก. สติ

ข. สัมปชัญญะ

ค. สมาธิ

ง. ปัญญา

9. พระไตรปิฎก หมายถึงสิ่งใด

ก. พระธรรม

ข. พระพุทธเจ้า

ค. พระสงฆ์

ง. อุบาสก อุบาสิกา



10. ข้อใด **ไม่ใช่** ความสำคัญของพระไตรปิฎก

ก. เป็นที่รวบรวมคำสอนของพระพุทธเจ้า

ข. ใช้อ้างอิงหลักธรรมทางพระพุทธศาสนา

ค. เกิดจากพระวจนะของพระพุทธเจ้า

ง. ใช้เป็นแนวทางปฏิบัติตนให้พ้นทุกข์





ใบงานที่ 2 วิชา ประวัติศาสตร์ ชั้นประถมศึกษาปีที่ 3 ภาคเรียนที่ 1

คะแนน

หน่วยที่ 1 เรื่อง เหตุการณ์สำคัญในโรงเรียนในชุมชน

มาตรฐาน/ตัวชี้วัด มฐ. ส.4.1 ป.3/2 แสดงลำดับเหตุการณ์สำคัญของโรงเรียนและชุมชนโดยระบุหลักฐาน

ชื่อ - สกุล ชั้น เลขที่.....

ครูผู้สอน

คุณครูวารี กิจอินทรีย์

เบอร์โทร

083-2701758

เรื่องที่ 1 เหตุการณ์สำคัญในโรงเรียนในชุมชน

จงวง ล้อมรอบตัวอักษร ก, ข หรือ ค ที่เป็นคำตอบที่ถูกต้องที่สุด

- ความเป็นมาของโรงเรียนของเราสามารถสอบถามข้อมูลได้จากใคร
ก. เพื่อนนักเรียน
ข. ครูใหญ่
ค. การโรง
ง. คนในชุมชน
- ใครให้ข้อมูลของโรงเรียนได้ดีที่สุด
ก. พ่อแม่
ข. ตัวเรา
ค. คุณครู
ง. แม่ค้าในโรงเรียน
- ครูใหญ่ เป็นแหล่งข้อมูลในลักษณะใด
ก. บุคคล ข. สถานที่
ค. บันทึก ง. เอกสาร
- ข้อใดเป็นแหล่งข้อมูลเกี่ยวกับโรงเรียน
ก. สุนัขบัตร
ข. สำเนาทะเบียนบ้าน
ค. เว็บไซต์ของโรงเรียน
ง. บัตรประจำตัวประชาชน
- แหล่งข้อมูลใด เป็นเอกสารสำคัญของโรงเรียน
ก. หนังสือทำเนียบรุ่น
ข. ป้ายประกาศของโรงเรียน
ค. ทะเบียนประวัติของนักเรียน
ง. บันทึกการท่องเที่ยวของครู
- ถ้าต้องการดูเว็บไซต์ของชุมชนนักเรียนต้องค้นจากข้อใด
ก. ห้องสมุด ข. คอมพิวเตอร์
ค. บันทึกของครู ง. ป้ายชุมชน
- การสืบค้นประวัติของชุมชนทำให้นักเรียนเกิดความรู้สึกอย่างไร
ก. ตื่นเต้น ข. เบื่อหน่าย
ค. ภาคภูมิใจ ง. เฉยๆ
- ถ้าข้อมูลของโรงเรียนที่ได้มานั้นไม่ตรงกันข้อมูลจากใครน่าเชื่อถือที่สุด
ก. ครูใหญ่ ข. การโรง
ค. พ่อค้า ง. พระสงฆ์
- การซักถามเป็นขั้นตอนใดในวิธีการทางประวัติศาสตร์
ก. การรวบรวมข้อมูล
ข. การตรวจสอบข้อมูล
ค. การนำเสนอข้อมูล
ง. การกำหนดหัวข้อ
- ข้อมูลของชุมชนที่มีความน่าเชื่อถือต้องผ่านขั้นตอนใดก่อน
ก. การกำหนดหัวข้อ
ข. การรวบรวมข้อมูล
ค. การนำเสนอข้อมูล
ง. การตรวจสอบข้อมูล

ได้คะแนน



ใบงานที่...3...วิชา...สุขศึกษาและพลศึกษา...ชั้น...ป.3...ภาคเรียนที่...1...

คะแนน

หน่วยที่...1...เรื่อง...การเจริญเติบโตของเรา...

มาตรฐาน/ตัวชี้วัด...พ.1.1 ม.3/1...ลักษณะของการเจริญเติบโต...


ชื่อ - สกุล ชั้น เลขที่.....

ครูผู้สอน...นาย สนั่น (คุณตาชาติ) เบอร์โทร...081-721-8036.....

คำชี้แจง : ให้นักเรียนเขียนประโยชน์และข้อควรปรับปรุงของการฝึกปฏิบัติการเคลื่อนไหวร่างกายให้ถูกต้อง (พ.๑.๒ ป.๒/๑)

....ประโยชน์ของการเคลื่อนไหวร่างกาย....

Blank area for writing the benefits of physical activity, with a large arrow pointing to the right.



ให้นักเรียนบอกชื่อการออกกำลังกายที่ชื่นชอบมา 2 ประการ

Blank area for writing the names of two favorite sports.

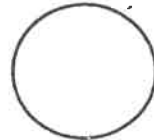


ใบงานที่ 4 วิชา สุขศึกษาและพลศึกษา ชั้น ป.3 ภาคเรียนที่ 1

คะแนน

หน่วยที่ 1 เรื่อง การปฏิบัติตนและสัมพันธ์ภาพ

มาตรฐาน/ตัวชี้วัด พ.2.1 ป.3/2 การปฏิบัติสัมพันธ์ภาพ



ชื่อ - สกุล ชั้น เลขที่

ครูผู้สอน นายสนธิ มั่นหนองบัว เบอร์โทร 081-721-8036

คำชี้แจง : ให้นักเรียนอ่านบทความ พร้อมตอบคำถามที่กำหนดต่อไปนี้ให้ถูกต้อง (พ.๒.๑ ป.๒/๑)

เรื่อง สัมพันธภาพกับเพื่อน

บอลเป็นเด็กที่มีรูปร่างใหญ่โตชอบรังแกเพื่อนและหาเรื่องชกต่อยกับผู้อื่นอยู่เป็นประจำก็ทั้งยังไม่มีน้ำใจ เห็นแก่ตัว มีขมมกไม่แบ่งใคร ทุกคนต่างรังเกียจของบอลและพากันไม่ชอบบอล ไม่มีใครอยากคบหา และไม่ยอมให้เข้ากลุ่ม วันหนึ่งบอลไม่สบาย เป็นไข้ แต่ก็ไม่มีเพื่อนคนใดพาไปห้องพยาบาลเลย เพราะทุกคนกลัวบอลจะรังแก และบอลก็ไม่เคยช่วยเหลือใครมาก่อน ด้วย

๑) ปิงป้องกันตัวยังไม่ได้อย่างไร

.....
.....

๒) ทำไมจึงไม่มีใครคบหาปิงป้องกันเพื่อน

.....
.....

๓) ทำไมเพื่อน ๆ จึงไม่อยากพาปิงป้องกันไปห้องพยาบาล

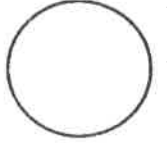
.....
.....



ใบงานที่ 3 วิชา ศิลปะ ชั้น ป 3. ภาคเรียนที่ 1

คะแนน

หน่วยที่ 2 เรื่อง งานศิลปะแสนสนุก




มาตรฐาน/ตัวชี้วัด: วาดภาพถ่ายทอดความคิด ความรู้สึกจากเหตุการณ์จริงโดยใช้สิ่งของที่อยู่รอบตัวเรา

ชื่อ - สกุล ชั้น เลขที่.....

ครูผู้สอน. นางอรุณญา กระจำงศิลป์ เบอร์โทร 087 - 0422097

ให้นักเรียนวาดภาพสิ่งต่าง ๆ ที่อยู่รอบตัวเรา จากความคิดหรือความรู้สึกหรือจากเหตุการณ์จริงๆ พร้อมระบายสีให้สวยงาม

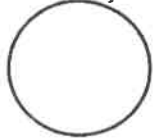




ใบงานที่ 4 วิชา ศิลปะ ชั้น ป 3. ภาคเรียนที่ 1

คะแนน

หน่วยที่ 1 เรื่อง การปั้นพาเพลิน



มาตรฐาน/ตัวชี้วัด มีทักษะพื้นฐานในการใช้วัสดุ อุปกรณ์ สร้างสรรค์งานปั้น

ชื่อ - สกุล ชั้น เลขที่.....

ครูผู้สอน. นางอรัญญา กระจ่างศิลป์ เบอร์โทร 087 - 0422097

ให้นักเรียนเตรียมอุปกรณ์การปั้น ดินน้ำมัน เพื่อให้ปั้นรูปผลไม้ รูปสัตว์ และรูปดอกไม้ 3 ชนิด

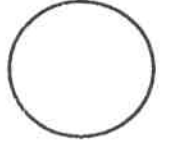


ใบงานที่ 3 วิชาการงานอาชีพ ชั้นประถมศึกษาปีที่ 3 ภาคเรียนที่ 1

คะแนน

หน่วยที่ 1 เรื่องหนูดุลของใช้

มาตรฐาน/ตัวชี้วัด ง 1.1 ป.3/1 อธิบายวิธีการและประโยชน์การทำงาน เพื่อช่วยเหลือตนเอง
ครอบครัว และส่วนรวม



ชื่อ - สกุล ชั้น เลขที่.....

ครูผู้สอน นางปิยะรัตน์ ฤทธิริน เบอร์โทร. 062-4924945

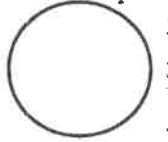
1.ให้นักเรียนบอกวิธีการดูแลรักษา และวิธีการจัดเก็บของใช้ส่วนตัว มา 5 ชนิด



ใบงานที่ 4 วิชาการงานอาชีพ ชั้นประถมศึกษาปีที่ 3 ภาคเรียนที่ 1

คะแนน

หน่วยที่ 1 เรื่องหนูดูแลของใช้



มาตรฐาน/ตัวชี้วัด ง 1.1 ป.3/1 อธิบายวิธีการและประโยชน์การทำงาน เพื่อช่วยเหลือตนเอง
ครอบครัว และส่วนรวม

ชื่อ - สกุล ชั้น เลขที่.....

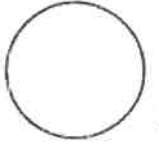
ครูผู้สอน นางปิยะรัตน์ ฤทธิรัตน์ เบอร์โทร. 062-4924945

1.ให้นักเรียนบอกวิธีการดูแลรักษา และวิธีการจัดเก็บของใช้ส่วนรวม มา 5 ชนิด



ใบงานที่ 1 วิชาภาษาอังกฤษ ชั้นประถมศึกษาปีที่ 3 ภาคเรียนที่ 1

คะแนน



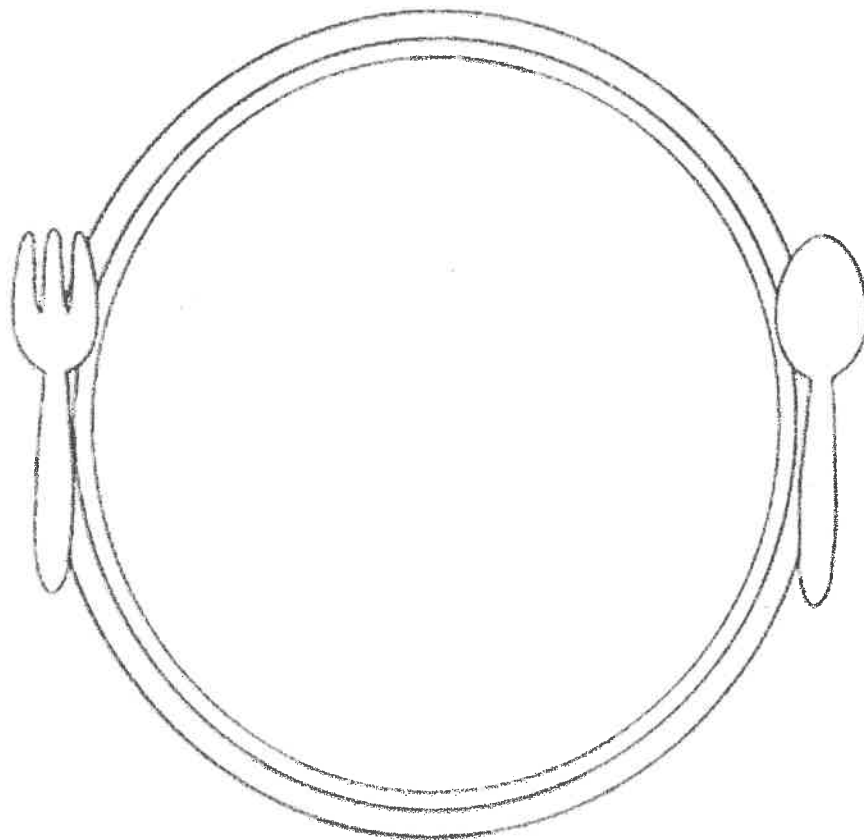
หน่วยที่ 3 เรื่อง Eat and Drink

มาตรฐาน/ตัวชี้วัด ค 1.2 ป.3/3 บอกความต้องการง่ายๆของตนเองตามแบบที่ฟัง

ชื่อ - สกุล ชั้น เลขที่.....

ครูผู้สอน ครูณัณตย์ บุญช่วย เบอร์โทร 087-766-8099

ให้นักเรียนวาดภาพระบายสีและเขียนคำศัพท์อาหารที่ชอบ



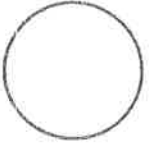
I like to eat



ใบงานที่ 1 วิชาภาษาอังกฤษ ชั้นประถมศึกษาปีที่ 3 ภาคเรียนที่ 1

คะแนน

หน่วยที่ 4 เรื่อง Home sweet home




มาตรฐาน/ตัวชี้วัด ต 1.2 ป.3/5 บอกความรู้สึกของตนเองเกี่ยวกับสิ่งต่างๆใกล้ตัวหรือกิจกรรมต่างๆตามแบบที่ฟัง
ชื่อ - สกุล ชั้น เลขที่.....

ครูผู้สอน คุรุณนิตย์ บุญช่วย

เบอร์โทร 087-766-8099

ให้นักเรียนจับคู่คำศัพท์กับรูปภาพให้ถูกต้อง

Kitchen ●



ห้องนั่งเล่น

Bathroom ●



ห้องน้ำ

Living room ●



ห้องนอน

Garage ●



ห้องครัว

Bedroom ●

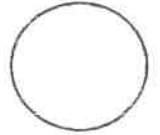


โรงรถ



ใบงานที่...#3...วิชา.....English.....ชั้น.....P.3.....ภาคเรียนที่.....1.....

คะแนน



หน่วยที่ เรื่อง.....Telling The Time.....

มาตรฐาน/ตัวชี้วัด...The students will learn to tell the time...

ชื่อ - สกุล ชั้น เลขที่.....

ครูผู้สอน.....Miss Elizabeth C. Mier..... เบอร์โทร.....0946461006.....

Instructions: Fill in the missing words. Choose your answer from the choices given below.

have

eight o'clock

go to bed

watch TV

dinner

four o'clock

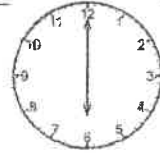
twelve o'clock

six o'clock

go to school

do the homework

I get up at _____.



I _____ breakfast at seven o'clock.

I _____.



I have lunch at _____.



I _____ at seven o'clock.



I go home at _____.



I _____.



I have _____ at six o'clock.



I _____.

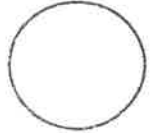


at nine o'clock.



ใบงานที่...#4...วิชา.....English.....ชั้น.....P.3.....ภาคเรียนที่.....1.....

คะแนน



หน่วยที่ เรื่อง.....Free Time Activities.....

มาตรฐาน/ตัวชี้วัด...The students will learn to tell about their free time activities...

ชื่อ - สกุล ชั้น เลขที่.....

ครูผู้สอน.....Miss Elizabeth C. Mier..... เบอร์โทร.....0946461006.....

Instructions: Draw a line to connect the sentence that best describes each picture.



I play the guitar.



I draw.



I play games.



I read a book.



I cook.




I watch TV.



I ride a bike.



I sing.



I listen to music.



I dance.